


புலமை அறிவு



தரம்



2020 புலமைப்பரிசில் பரீட்சை எழுதும்
மாணவர்களுக்கான முன்னோடிப் பரீட்சை 10

ஆசிரியர்

திரு. ந. மனோகரன் BA, Dip in Teach , SLTS II
(புலமை அறிவு வினாத்தாள் ஆசிரியர் -
(புலமைச் சுடர், மலைமுரசு, ஒளி அரசு புலமைப் பரிசில்,
கிழக்கு மாகாணம் - வினாத்தாள் ஆசிரியர்)
தி/ஸ்ரீ சண்முக கிந்து மகளிர் கல்லூரி (தேசிய பாடசாலை)

**MISTAKES
ARE PROOF THAT
YOU ARE
TRYING**

மாணவர் பெயர்

புள்ளித்திட்டம்

பகுதி I	
பகுதி II	
மொத்தம்	

பகுதி I

- 01ஆம், 02ஆம் வினாக்களில் தரப்பட்டுள்ள அறிவுறுத்தல்களுக்கேற்ப அவற்றின் கீழேயுள்ள வினாக்களுக்கு விடை தருக.

01. நீர் -- உயிரினம் -- தரை -- ஆபத்து -- கூரிய பற்கள்

1)



2)



3)



02. இசை -- தோற்கருவி -- கைகளால் இசைத்தல் -- மிருகத்தோல்

1)



2)



3)



- தரப்பட்டுள்ள பாடலை வாசித்து விளங்கி விடை தருக.

நுரைகள் மோதும் கரையைப் பார்
நூலில் தொங்கும் இரையைப் பார்
ஓடும் மீன்கள் நிரையைப் பார்
ஒளிக்கும் நண்டின் விரைவைப் பார்!

03. பாடலில் குறிப்பிடப்படும் இடம்

1) காடு

2) கடற்கரை

3) பூங்கா

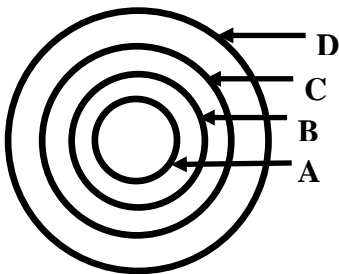
04. கரையில் மோதுவது

1) இரை

2) திரை

3) நுரை

05. கீழே தரப்பட்டுள்ள விடைகளுள் சிறியதில் இருந்து பெரியது வரை ஏறுவரிசையில் எழுதப்பட்டுள்ள விடையைத் தெரிந்து விடையளிக்கவும்.



1) நகரம், கிராமம், மாகாணம், மாவட்டம்

2) மாகாணம், மாவட்டம், நகரம், கிராமம்

3) கிராமம், நகரம், மாவட்டம், மாகாணம்

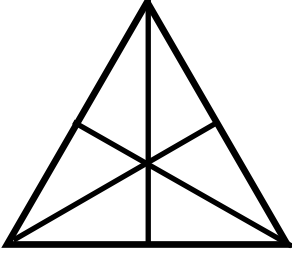
06. ஸ்ரீதேவியின் உயரம் 1m 45cm. ரதிதேவியின் உயரம் அதைவிடவும் 25cm கூட. ஆயின் இருவரினதும் மொத்த உயரம்

1) 3m 15cm

2) 2m 65cm

3) 3m 30cm

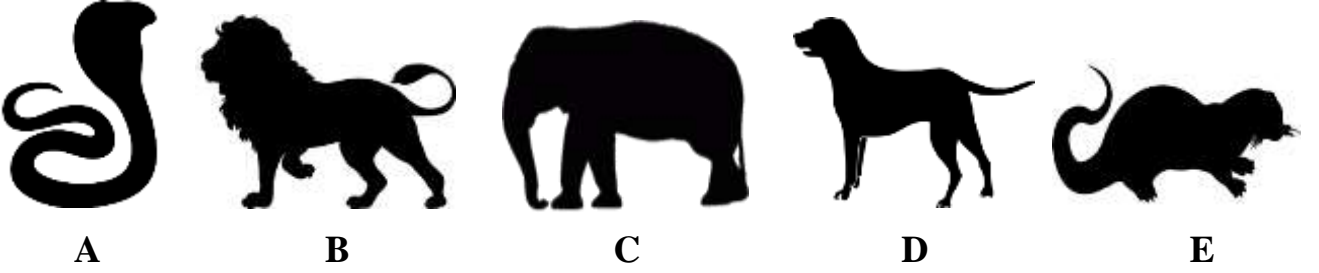
07.



உருவிலுள்ள முக்கோணிகளின் எண்ணிக்கை

- 1) 12 2) 16 3) 14

• தரப்பட்டுள்ள உருக்களைக் கவனத்திற்கொண்டு விடை தருக.



08. ஒன்றுக்கொன்று பகையானவை

- 1) A , E 2) B , D 3) C , E

09. காட்டு ராஜாவும் வீட்டு ராஜாவும்

- 1) A , C 2) B , D 3) C , E

• கீழே அடைப்பினுள் தரப்பட்டுள்ள தகவல்களை அடிப்படையாகக் கொண்டு 09, 10 ஆம் வினாவுக்கு விடை தருக.

A - அவன்	B - அவள்	C - நீ	D - வந்தான்
	E - வந்தார்கள்	F - வருவான்	

10. படிக்கவோ வந்தாய், இதன் எழுவாய்

- 1) A 2) B 3) C

11. உயர்திணை, ஆண்பால், இறந்தகால, படர்க்கை வினைச்சொல்

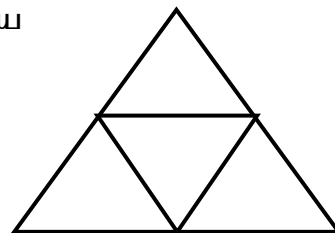
- 1) F வருவான் 2) E வந்தார்கள் 3) D வந்தான்

12. $PQR = 368$ ஆயின் RPQ இன் பெறுமதி யாது ?

- 1) 836 2) 564 3) 683

13. இம் முக்கோணியில் இருந்து இனங்காணக்கூடிய அதிகூடிய முக்கோணிகள்

- 1) 4
2) 1
3) 5



- கவிதையை வாசித்துவிட்டு பின்வரும் வினாக்களுக்கு விடை தருக.


சுத்தமே என்றும் சுகம் அளிக்கும் - தீய
சோம்பலை ஒட்டித்தூர்த்தும் - அம்மா!
இத்தரை வாழ்வைப் பெருக்கும் அம்மா! ஆதற்கு
ஈடேதும் இல்லையான் சொன்னேன், அம்மா

14. எப்போதும் சுகம் அளிப்பது,
1) உணவு 2) நித்திரை 3) சுத்தம்
15. தீய என்ற சொல்லின் ஒத்தகருத்துச் சொல்
1) கெட்ட 2) நல்ல 3) தூய
16. சுத்தம் என்பதன் எதிரகருத்துச் சொல்
1) நித்தம் 2) அசுத்தம் 3) அழுக்கு


- பின்வரும் வாக்கியங்களை நிறைவு செய்ய பொருத்தமான உவமைத் தொடரின் கீழ்க் கோடிடுக.

17. பயனற்ற முயற்சியொன்றில் தொடர்ந்து ஈடுபடுவது
1) ஆனை வாயில் கரும்பு போல
2) ஆற்றிலே கரைத்த புளி போல
3) கல்லிலே நார் உரிப்பது போல
18. ஒன்றை பல நாட்களாக எதிர்பார்த்திருந்து ஏமாற்றமடைவது,
1) கிணறு வெட்ட பூதம் புறப்பட்டது போல
2) இலவுகாத்த கிளி போல
3) கரும்பு இருக்க இரும்பு கடித்தது போல

- கீழ்வரும் தகவல்களை அடிப்படையாகக் கொண்டு 19, 20 ஆம் வினாக்களுக்கு விடை தருக.



ரூபா 40.00



ரூபா 90.00



ரூபா 70.00

19. அப்பிள்கள் மூன்றின் விலை,
1) ரூபா 20.00 2) ரூ 25.00 3) ரூபா 90.00
20. ரூ100.00 ஐக் கொடுத்து மாம்பழமொன்றும், அன்னாசிப்பழமொன்றும் வாங்கினால் கிடைக்கும் மீதிப் பணம் யாது ?
1) ரூபா 40.00 2) ரூபா 35.00 3) ரூபா 30.00

- பின்வரும் கூற்றுக்கள் பிழையானவை அதற்கான காரணங்களை கண்டுபிடியுங்கள்

21. எனது தம்பியின் பிறந்ததினம் 2019 பெப்ரவரி 29 என ராசிதா கூறினாள்.

- 1) பெப்ரவரி மாதமொன்றில் 29ஆம் திகதி இருப்பதில்லை
- 2) ராசிதாவிற்கு தம்பியொருவர் இல்லையாதலால்
- 3) 2019 ஒரு லீப் வருடமாக உள்ளதால்

22. இந்த வானொலியில் உருக்கள் தெரியாததனால், அதனைக் கடையில் கொடுத்துவிட்டு உருக்கள் தெரியும் வானொலியொன்றை வாங்கி வரும்படி பாட்டி கூறினாள்.

- 1) உருக்கள் தெரியும் வானொலி விலை கூடியது என்பதால்
- 2) வானொலியானது கேட்கும் இயந்திரமொன்றாகும் என்பதால்.
- 3) உருக்கள் தெரியும் வானொலிக்கு மக்கள் விருப்பம் இன்மை என்பதால்

- வெற்றிடங்களுக்கு மிகவும் பொருத்தமான விடையைத் தெரிவு செய்க.

23. எரிகிற எண்ணெய் போல

- 1) நெருப்பில் - பூசியது
- 2) தணவில் - வடிந்தது
- 3) நெருப்பில் - ஊற்றியது

24. விவசாயி உழுது நெல்லை

- 1) நிலத்தை - நட்டாள்
- 2) வயலை - விதைத்தாள்
- 3) சேற்றை - கொட்டினாள்

- கவிதையை வாசித்தபின் கேட்கப்பட்டிருக்கும் வினாக்களுக்கு விடை தருக.

சோலைக் கிளியே சாய்ந்தாடு
தோகை மயிலே சாய்ந்தாடு
கண்ணேமணியே சாய்ந்தாடு
கற்பகத்தருவே சாய்ந்தாடு
கண்ணே தேனே சாய்ந்தாடு
கனியே பாலே சாய்ந்தாடு

25. கற்பகத்தரு என்பதன் கருத்து,

- 1) கேட்பதெல்லாம் கொடுக்கும்
- 2) பதனீர் கொடுக்கும்
- 3) கற்பதற்கு உதவும்

26. கற்ப தரு என அழைக்கப்படும் மரம்,

- 1) கமுகு
- 2) பனை
- 3) கித்துள்

27. 'மரங்களையும், மரப்பலகைகளையும் கொண்டு தளபாடங்கள் செய்பவன்' என்ற தொடர் குறிக்கும் தனிச்சொல்

- 1) குயவன்
- 2) தச்சன்
- 3) கொத்தன்

28. குணாளன் ஓர் ஏழை மாணவன். அவன் நண்பர்களிடம் புத்தகங்களை இரவலாகப் பெற்றுப்படித்துப் பரீட்சையில் திறமையாகச் சித்தியடைந்தான். இதன்படி குணாளன்.

- 1) அதிஷ்டசாலி ஆவான்
- 2) சிறந்த முயற்சியுடையவன் ஆவான்
- 3) தந்திரசாலி ஆவான்.

- வெற்றிடத்துக்குப் பொருத்தமான சொல்லைத் தெரிவு செய்க.

29. பேருந்து – எரிபொருள் எனின், பேனை -

- 1) எழுத்து 2) மை 3) நிறச்சாயம்


30. வீடு – அறை எனின், வைத்தியசாலை -

- 1) மருந்து 2) கட்டில் 3) வாட்டு

31. வங்கி – முகாமையாளர் எனின், பாடசாலை -

- 1) அதிபர் 2) ஆசிரியர் 3) மாணவர்

32.

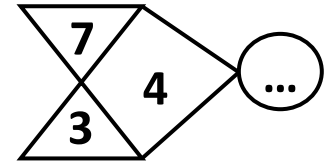
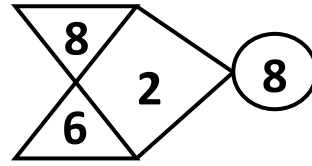
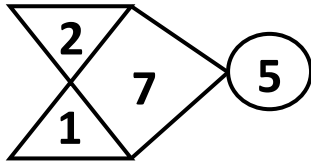


இவ் உருவில் எத்தனை சதுரங்கள் உண்டு ?

- 1) 5
2) 4
3) 6

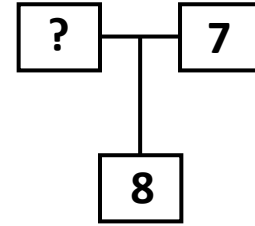
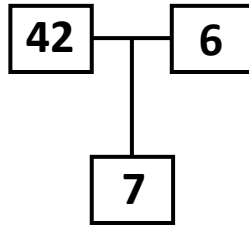
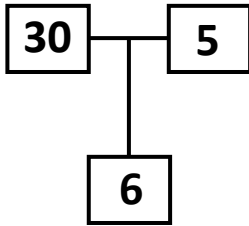
- எண்கள் இடப்பட்ட கோலத்திற்கேற்ப வெற்றிடத்திற்குப் பொருத்தமான விடையைத் தெரிவு செய்க.

33.



- 1) 06 2) 07 3) 08




34.



- 1) 64 2) 63 3) 56

35. பின்வரும் ஆங்கில எழுத்துக்களுள் கண்ணாடியின் முன் வைத்தபோது அதேவடிவில் மாற்றமின்றித் தெரியும் எழுத்து எது ?

- 1) 2) 3)



செய்கை வேலைக்கான பகுதி

பகுதி II

01. பந்தியை வாசித்து விடை தருக.

ஒரு நாள் மாலை நேரத்தில், சிறுவர்கள் சிலர் ஓரிடத்திலே விளையாடிக் கொண்டிருந்தார்கள். அப்பொழுது அவ்வழியில் வந்த தமிழ்ப் புலவர் ஒருவர், அச்சிறுவர்களைப்பார்த்து “சிறுவர்களே! இவ்வூரில் வதியும் வில்லவராய் முதலியாரின் இல்லம் எங்குள்ளது?” எனக் கேட்டார். அச்சமயம் சிறுவர்கள் ஒருவரை ஒருவர் பார்த்தனர்.

01. உயர்திணை ஆண்பால் பெயர்ச் சொல்?
02. காலப் பெயர்ச் சொல்?
03. இடப் பெயர்ச் சொல்?
04. கவிஞர் என்பதன் ஒத்த சொல்?
05. இணைமொழிச் சொல்?
06. சொற்களை சேர்த்தெழுதுக : ஓர் + இடத்திலே
07. வீடு என்பதற்குரிய ஒத்த சொல்?
08. பந்தியில் வந்துள்ள நிறுத்தற் குறிகளை எழுதுக?
09. காலை என்பதன் எதிர்க்கருத்து?
10. சொற்களை பிரித்தெழுதுக : எங்குள்ளது

02. வெற்றிடங்களுக்குப் பொருத்தமான சொல்லை அடைப்புக்குள் இருந்து தெரிவு செய்து அதன் கீழ் கோடிடுக.

1. சூரியன் (ஒளி / ஒலி) மிகவும் பிரகாசமானது.
2. இளமையிற் கல்வி (சிளையில் / சிலையில்) எழுத்து என்பது முதுமொழி
3. சபரி ஒவ்வொரு (பழங்களாகச் / பழமாகச்) சுவைத்துப் பார்த்தாள்.
4. ஆற்றங்யில் ஒரு பெரிய ஆலமரம் உள்ளது. (கரை / கறை)
5.க் கொண்டு குளவி கூடுகட்டியது. (களிமன்னை / களிமண்ணை)
6. டெங்கு பரவும் இடங்களை ஒழிக்க வேண்டும். (நுளம்பு / நூளம்பு)
7. இளங்கன்று (பயமரியாது / பயமறியாது)
8. மாணவர்கள் காலைக்கூட்டத்திற்குயாக நின்றனர். (நிரை / நிறை)
9. நண்பர்கள் அனைவரும் மாமர அமர்ந்து கொண்டனர். (நிலழிலே / நிழலிலே)

03. பொருத்தமான விடையை தெரிவு செய்து அதன்கீழ்க் கோடிடுக.

1. தமிழ் மொழியில் மெய் எழுத்துக்கள் உள்ளன. (12 / 18 / 216)
2. குழந்தைகளை உறங்க வைப்பதற்காக பாடப்படும் பாடல் ஆகும். (ஒப்பாரிப்பாடல் / தாலாட்டுப்பாடல் / சாய்ந்தாடம்மாப் பாடல்)
3. கைகேயி தசரதனிடமிருந்து பெற்ற வரத்தினால் காட்டுக்குச் சென்றான். (இலக்குமணன் / பரதன் / இராமன்)

04. இடைவெளிக்குப் பொருத்தமான சொல்லை எழுதுக.

1. வாழையின் இளையது கச்சல் என்பது போல – மாவின் இளையது
2. ஆந்தை அலறும் என்பது போல – நாய்
3. கிளிபேசும் என்பதுபோல பல்லி

05. சரியான விடையை எழுதுக.

1. பொன்பூச் சொரியும் பொலிந்த செழுந்தா திறைக்கும் என்ற பாடலை பாடிய புலவர் யார்?
.....
2. மாமா என்பதன் பன்மைச் சொல்லை எழுதுக.
.....
3. பூங்கா என்பதிலுள்ள உயிர்க்குறியின் பெயரை எழுதுக?
.....

06. பின்வரும் ஆங்கில வாக்கியங்களின் கருத்தினை தமிழில் எழுதுக.

1. Please wipe your nose :
2. I want to write :
3. Come forward :

07. சிங்கள வாக்கியத்தின் கருத்தினை தமிழில் எழுதுக.

1. மாமே கதாவ கியன்ன :
2. அஹஸ நில் பா(ட்)டய் :

08. பின்வரும் வாக்கியம் சிங்களத்தில் சொல்லப்படும் விதத்தை தமிழ் எழுத்துக்களில் எழுதுக.

1. இது எனது பாடசாலை :

09. தரப்பட்ட படங்களுக்குரிய பெயரின் சிங்கள உச்சரிப்பை தமிழ் எழுத்துக்களில் எழுதுக.



.....



.....

10. “நாங்கள் சென்ற சுற்றுலா” என்ற தலைப்பில் சரியான எழுவாய் பயனிலை புலப்படும் வகையில் மூன்று வாக்கியம் எழுதுக. ஒவ்வொரு வாக்கியமும் ஐந்து சொற்களுக்குக் குறையாதவாறு அமைதல் வேண்டும்.

1)

.....

2)

.....

3)

.....

11. தரப்பட்ட வெற்றிடத்தில் விடையை எழுதுக.

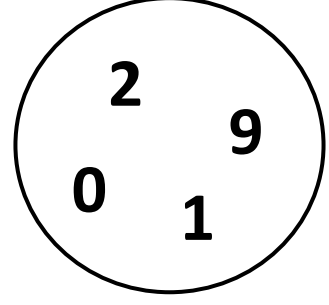
1) இந்த நான்கு இலக்கங்களைக் கொண்டு,

1. ஆக்கக்கூடிய மிகப்பெரிய எண்குறி எது ?

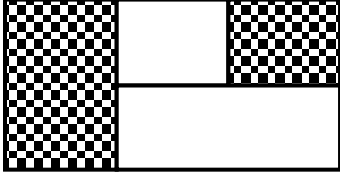
.....

2. ஆக்கக்கூடிய மிகச்சிறிய எண்குறி எது ?

.....



2)



நிழற்றப்பட்ட பகுதி முழு உருவின் என்ன பின்னம் ?

.....

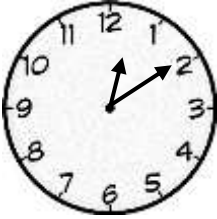
3) 3 சமமான மாபிள்களின் நிறை 45g ஆகும். அம்மாதிரியான 5 மாபிள்களின் நிறையைக் காண்க.

.....

4) 2012, 2014 இதில் எந்த ஆண்டில் பெப்ரவரி மாதம் 29 நாட்களைக் கொண்டிருக்கும்

.....

5)



கடிகாரம் காட்டும் நேரம் என்ன?

.....

6) 5682 இவ்வெண்ணை விரித்து எழுதுக.

.....


7) வியாபாரி ஒருவர் 550 மாம்பழங்கள் இருந்த ஒரு குவியலில் இருந்து 265 மாம்பழங்களை விற்பார். விற்பனை செய்வதற்கு இன்னும் எத்தனை பழங்கள் உள்ளன.

.....

8) 6934 என்ற எண்ணில் நூறுகள் இடத்தும் பத்துக்கள் இடத்தும் காணப்படும் எண்களின் கூட்டுத்தொகை யாது ?

.....

9)



நிழற்றப்பட்ட பகுதியை தசம எண்ணில் தருக.

.....

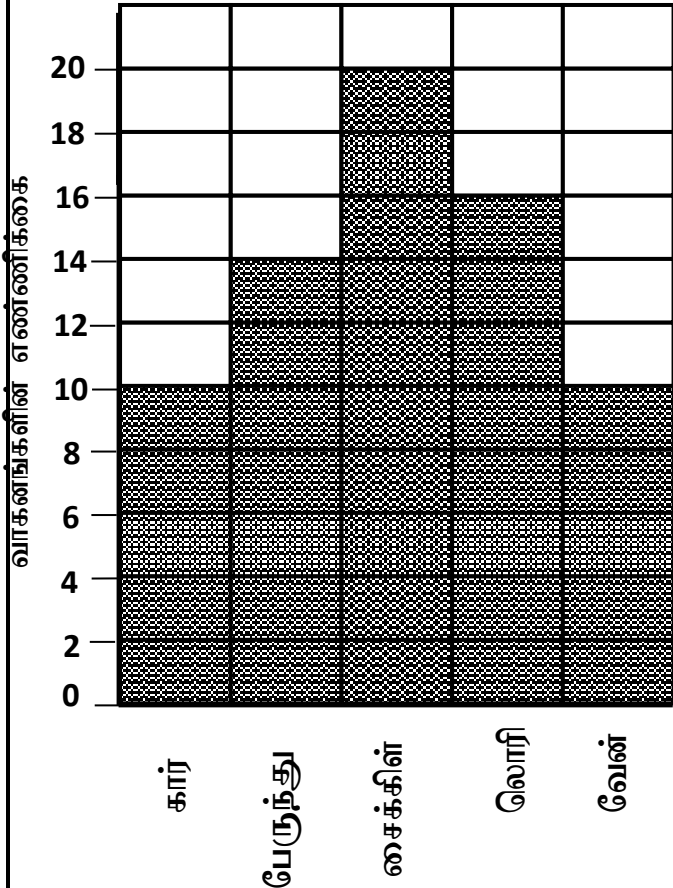
10) ஒரு வகுப்பறையில் 3 கதிரைகள் வீதம் உள்ள 12 நிரைகளும் 5 கதிரைகள் வீதம் உள்ள 6 நிரைகளும் உள்ளன. அந்நிரையில் உள்ள கதிரைகளின் எண்ணிக்கை யாது?

.....

11) 1kg சீனியின் விலை ரூபா 80.00 எனின், 750g சீனியை வாங்கிக் கொண்டு ரூபா 100.00 ஐக் கொடுத்தால் கிடைக்கும் மீதிப் பணம் யாது ?

.....

- ஒரு மணித்தியால நேரத்தினுள் ஒரு பாதையினூடாகப் பயணித்த வாகனங்கள் பற்றிய விபரங்கள் கீழே நிரல் வரைபில் தரப்பட்டுள்ளன. அதனைப் பயன்படுத்தி வினாக்களுக்கு விடை தருக.



12) சம எண்ணிக்கையில் சென்ற வாகனங்கள் எவை ?

.....

13) மிகக் கூடியளவு சென்ற வாகனம் எது ?

.....

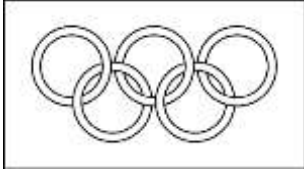




14) ஒரு மணித்தியால நேரத்தினுள் பயணித்த வேன்களினதும் பேருந்துகளினதும் மொத்த எண்ணிக்கை யாது ?

.....

15) ஒரு மணித்தியால நேரத்தினுள் பயணம் செய்த எல்லா வாகனங்களினதும் கூட்டுத்தொகை யாது ?

.....

12. சரியான விடையின் கீழ்க் கோடிடுக.

1. புனித வெள்ளரசு மரம் காணப்படும் நகர்
1) பொலன்னறுவை 2) அநுராதபுரம் 3) கதிர்காமம் 4) தம்புள்ள
2. காணாமல்போன அடையாள அட்டை பற்றி முறைப்பாட்டுக்காச் செல்ல வேண்டிய இடம்
1) கிராம சேவகர் அலுவலகம்
2) பொலிஸ் நிலையம்
3) பிரதேச செயலகம்
4) பிரதேசசபை
3. மஞ்சள் நிறமான பூ
1) கொன்றை 2) மல்லிகை 3) கத்தரி 4) மிளகாய்
4. முட்டையிட்டு இனம் பெருக்கும் பிராணி அல்லாதது
1) முதலை 2) ஓணான் 3) தவளை 4) கீரி
5.  இந்த இலட்சினைக்குரிய துறை
1) கல்வி
2) விளையாட்டு
3) சுகாதாரம்
4) விவசாயம்
6. இலங்கை முழுவதையும் தனது ஆதிக்கத்தின் கீழ்க் கொண்டு வந்த அன்னியநாட்டவர்
1) போர்த்துக்கீசர் 2) ஒல்லாந்தர் 3) ஆங்கிலேயர் 4) சீனர்
7. இலங்கையில் மிகக் குறைந்த வெப்பநிலையுடைய நகரம்
1) அம்பாந்தோட்டை 2) யாழ்ப்பாணம் 3) நுவரெலியா 4) அநுராதபுரம்
8. அதிக காலம் குட்டியை வயிற்றின் புறப்பையில் சுமக்கும் பிராணி
1)  2)  3)  4) 
9. அழகான கூடுகளை அமைக்கக்கூடிய பறவைகளில் ஒன்று?
1) கொக்கு 2) குயில் 3) மீன்கொத்தி 4) தூக்கணாங்குருவி

10. தேசிய கீதம் இசைக்கப்படுவது, தேசிய கொடியை

- 1) ஏற்றிய பின்னர்
- 2) ஏற்றும் போது
- 3) ஏற்றுவதற்கு முன்னர்
- 4) ஏற்றுவதற்கு முன்னரும் ஏற்றிய பின்னரும்



11. தேசியக் குறியீடு அல்லாதது

- 1) தர்மச்சக்கரம்
- 2) நாகரம்
- 3) வொலிபோல்
- 4) காட்டுக்கோழி

12. தேசிய இலச்சினையில் தன்னிறைவைக் குறிப்பது

- 1) நெற்கதிர்
- 2) நிறைகலசம்
- 3) தர்மச்சக்கரம்
- 4) சூரியசந்திரர்

13. படகமுவ வனம் அமைந்துள்ள மாவட்டம்

- 1) மொனராகலை
- 2) களுத்துறை
- 3) குருநாகல்
- 4) பதுளை

14. நத்தார் பண்டிகை கொண்டாடப்படுவது

- 1) டிசம்பர் 25
- 2) ஏப்ரல் 4
- 3) மே 25
- 4) ஜனவரி 15

15. இலங்கையை ஆக்கிரமித்த அந்நியர்களான போர்த்துக்கேயர் இலங்கைக்கு வந்தது,

- 1) 1796ல்
- 2) 1505ல்
- 3) 1815ல்
- 4) 1658ல்

16. தேசிய கொடியில் உள்ள நிறங்களின் எண்ணிக்கை

- 1) 4
- 2) 5
- 3) 3
- 4) 6

17. இலங்கையின் முதலாவது இராசதானி

- 1) அநுராதபுரம்
- 2) பொலநறுவை
- 3) கண்டி
- 4) தம்பதெனிய

18. தைப்பொங்கல், மகாசிவராத்திரி போன்ற உற்சவங்கள் கொண்டாடும் மதத்தவர்

- 1) பௌத்தர்
- 2) முஸ்லிம்
- 3) இந்து
- 4) கிறிஸ்தவர்

19. நரம்பு இசைக்கருவியை தெரிவு செய்க

- 1)
- 2)
- 3)
- 4)



20. வித்துக்களைப் பயன்படுத்தி செய்யப்படும் ஆக்கம்
 1) அல்பனா 2) ஓரிகாமி 3) கொலஜ் 4) அச்சுப்பதித்தல்
21. வேரின் மூலம் புதிய கன்றைப் பெறும் தாவரம்
 1) கறிவேப்பிலை 2) பனை 3) பப்பாசி 4) முருங்கை
22. இரவு நேரத்தை அண்மிக்கும் போது இலைகள் சுருங்கும் தாவரமாவது
 1) எலுமிச்சை 2) புளியம் 3) கறிவேப்பிள்ளை 4) வேம்பு
23. மழைவீழ்ச்சி அளவிடப்படுவது,
 1) mm 2) m 3) ml 4) l
24. இலங்கையின் தேசிய கீதத்தை இயற்றியவர்
 1) கலாகுரி ஆனந்த சமரகோன்
 2) டபிள்யூ. டி . அமரதே
 3) கலாநிதி சீ. டபிள்யூ. டபிள்யூ. கன்னங்கரா
 4) கலாநிதி ரீ. பீ. ஜாயா
25. அதிக மீன்களைப் பிடிக்க உதவும் உபகரணம் எது ?
 1) கரப்பு 2) வீச்சுவலை 3) அத்தாங்கு 4) இழுப்பு வலை
26. மஞ்சள் நிறமான காய், பழங்களில் அதிகளவில் காணப்படும் போசனைப் பொருள்
 1) புரதம் 2) விற்றமின் A 3) மாப்பொருள் 4) விற்றமின் C
27. புளிப்புச் சுவையுடைய பழங்களில் காணப்படும் விற்றமின் எது ?
 1) விற்றமின் A 2) விற்றமின் B 3) விற்றமின் C 4) விற்றமின் D
28. தேசியக் கொடி அரைக்கப்பட்டில் பறக்க விடப்படுவது எப்போது ?
 1) தேசிய தினம்
 2) சுதந்திர தினம்
 3) தேசிய துக்கதினம்
 4) தேசிய விளையாட்டுப் போட்டி
29. சிங்கராஜவனம் அமைந்துள்ள மாவட்டம்
 1) கேகாலை 2) பதுளை 3) இரத்தினபுரி 4) கண்டி
30. புத்தகங்களின் சிறப்புரிமையைப் பாதுகாக்கும் தரச்சான்று
 1) SLS 2) ISO 3) ISBN 4) SIS