


புலமை அறிவு



தரம்



2020 புலமைப்பரிசில் பரீட்சை எழுதும்
மாணவர்களுக்கான முன்னோடிப் பரீட்சை 08

ஆசிரியர்

திரு. ந. மனோகரன் BA, Dip in Teach , SLTS II

(புலமை அறிவு வினாத்தாள் ஆசிரியர் -

(புலமைச் சுடர், மலைமுரசு, ஒளி அரசு புலமைப் பரிசில்,
கிழக்கு மாகாணம் - வினாத்தாள் ஆசிரியர்)

தி/ஸ்ரீ சண்முக கிந்து மகளிர் கல்லூரி (தேசிய பாடசாலை)

**MISTAKES
ARE PROOF THAT
YOU ARE
TRYING**

மாணவர் பெயர்

புள்ளித்திட்டம்

பகுதி I

பகுதி II

மொத்தம்

பகுதி I

- 01ஆம், 02ஆம் வினாக்களில் தரப்படும் சொற்களுக்குப் பொருத்தமான உருவைத் தெரிவு செய்க.

01. கடல் - காற்று - ஓசை - துளை - இயற்கை



1)



2)



3)

02. அழகு - நிறம் - மணம் - உணவு - மஞ்சள்



1)

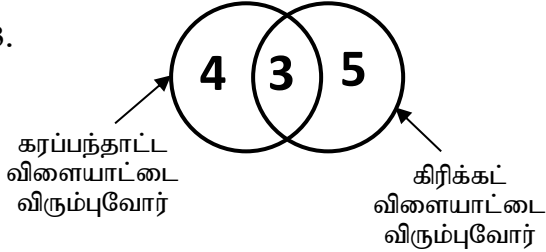


2)



3)

03.




இவ்வுருவின்படி ஒரு விளையாட்டை மட்டும் விரும்புவோர் எத்தனை பேர் இருக்கின்றனர் ?

- 1) 03
- 2) 12
- 3) 09

04. முழு உருவின் பரப்பளவு நிழற்றப்பட்ட பகுதியின் பரப்பளவைப் போல்,

- 1) மூன்று மடங்காகும்.
- 2) நான்கு மடங்காகும்
- 3) இரண்டு மடங்காகும்



05. அண்ணன் சிவப்பு நிறத்திற்கும் மஞ்சள் நிறத்திற்கும் விருப்பமுடையதுடன் பச்சை நிறத்திற்கு விருப்பமில்லை. தம்பி பச்சை நிறத்திற்கும் சிவப்பு நிறத்திற்கும் விருப்பம் எனினும் மஞ்சள் நிறத்திற்கு விருப்பமில்லை. நான் நீல நிறத்தையும் பச்சை நிறத்தையும் தவிர ஏனைய சகல நிறங்களையும் விரும்புவேன். அதன்படி, மூவரும் விருப்பமுடைய நிறம்,

- 1) சிவப்பு நிறம்
- 2) பச்சை நிறம்
- 3) மஞ்சள் நிறம்

06. ஒரு முறை கொண்டு செல்லும் போது 3 பெட்டிகள் வீதம் கொண்டு சென்றால் இரண்டு டசின் பெட்டிகளை எத்தனை தடவையில் கொண்டு செல்ல முடியும்.

- 1) 8 தடவை 2) 9 தடவை 3) 7 தடவை

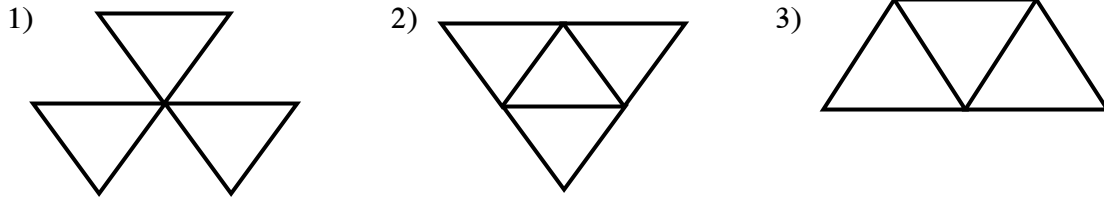
07. 8 நண்பர்கள் விழா ஒன்றில் சந்தித்து தம்மிடையே கைகுலுக்கிக் கொண்டனர். எனின், அங்கு இடம்பெற்ற கைகுலுக்கல்கள் எத்தனை ?

- 1) 64 2) 56 3) 28


08. நிமிடத்திற்கு 50m எனும் வேகத்தில் நடக்கும் ஒருவர் குறித்த ஓர் சதுரவடிவ பூம்பாத்தியை சுற்றிவர 8 நிமிடங்கள் தேவைப்பட்டது எனின், அப்பூம்பாத்தியின் ஒருபக்க நீளம் யாது ?

- 1) 150m 2) 100m 3) 75m


09. நான்முகியை அமைக்கக்கூடிய உருவைத் தெரிவு செய்க.




• கூட்டினுள் தரப்பட்ட பழங்களின் விலையினை அவதானித்து தனித்தனியே பழங்களின் விலையைக் காண்க.



ரூபா 30.00



ரூபா 35.00

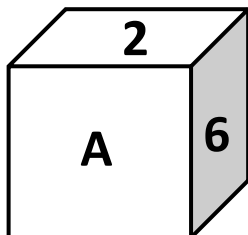


ரூபா 95.00

10. தோடம்பழம் ஒன்றின் விலை யாது ?

- 1) ரூபா 50.00 2) ரூபா 60.00 3) ரூபா 80.00

11.



இச்சதுரமுகியின் முகங்களில் 1 தோடக்கம் 6 வரையான இலக்கங்கள் எழுதப்பட்டுள்ளன. சகல எதிர் முகச்சோடிகளினதும் இலக்கங்களின் கூட்டுத்தொகை 7 ஆகும். அதன்படி A முகத்தினதும் அதற்கு எதிர் முகத்தினதும் இலக்கங்களாக இருக்கக்கூடியது,

- 1) 3 , 4 2) 2 , 5 3) 7 , 0

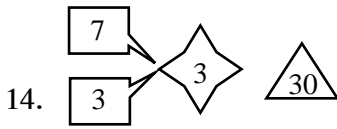
12. D, B, X, V ஆகிய எழுத்துக்களை முகம் பார்க்கும் கண்ணாடியில் பார்க்கும் போது மாற்றம் எதுவும் காணப்படாத எழுத்துக்கூட்டம் எவை ?

- 1) X, V 2) D, B 3) D, X

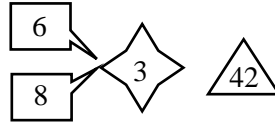
13. 31 தொடக்கம் 35 வரை இலக்கங்களை எழுதும் போது 3 எனும் இலக்கம் எழுதப்படும் தடவைகள் எத்தகை ?

- 1) 5 2) 6 3) 4

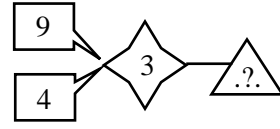
• இலக்கம் 14, 15 வினாக்களில் காட்டப்படும் எண் கோலங்களை கருத்தில் கொண்டு வெற்றிடத்துக்குப் பொருத்தமான எண்ணின் கீழ் கோடிடுக.



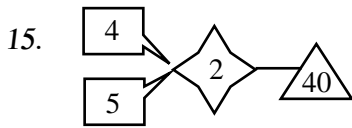
- 1) 49



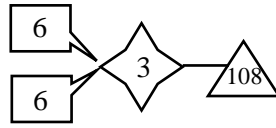
2. 39



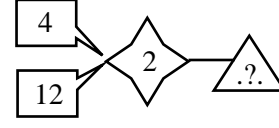
3. 36



1. 69



2. 84



3. 96

16. இங்குள்ள உருக்களை இரு கூட்டங்களாப் பிரிக்கும் போது வரும் சரியான விடையினைத் தெரிவு செய்க.



W



X



Y



Z

- 1)

Y, Z	W, X
------	------

2.

X, Y	W, Z
------	------

3.

X, Z	W, Y
------	------

17. இங்குள்ள பிராணிகளை மூன்று கூட்டங்களாக பிரிக்கும் சரியான விடையினைத் தெரிவு செய்க.



G



H



I



J



K



L

1.

G, J	H, I	K, L
------	------	------

2.

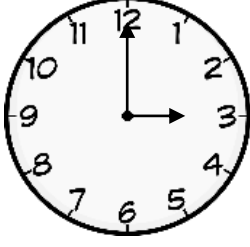
K, I	G, H	L, J
------	------	------

3.

G, J	H, K	I, L
------	------	------

26. கண்ணாடியில் பார்க்கும் போது மாறாத் தன்மையைக் காட்டும் எழுத்துக்கள் கொண்ட விடை
 1) WXYZF 2) BDCEF 3) AHIMO

27.



கடிகாத முட்களிடையே காணப்படும் கோணம்

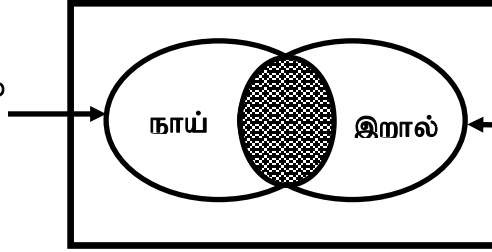
1. செங்கோணம் 2. விரிகோணம் 3. கூர்ங்கோணம்

28. உப்பு உற்பத்தி செய்யும் இடம்

- 1) உப்பளம் 2) உப்பாறு 3) உப்பிலிடல்

29.

நிலத்தில் வாழும்
உயிரினம்

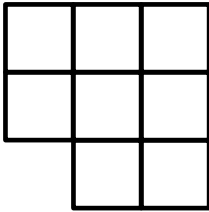


நீர் வாழ் உயிரினம்

நிழற்றிய பகுதிக்கு பொருத்தமான விலங்கு

- 1) பூனை 2) கழுதை 3) தவளை

30.



சதுர எத்தனை உண்டு

1. 10
2. 11
3. 12

31. வியாபாரி ஒருவரிடம் 5K௫ பருப்பு இருந்தது. அதில் பத்து 200௫ பொதிகளும், எட்டு 250௫ பொதிகளும், தயாரித்த பின் எஞ்சியதை 100௫ கொண்ட பொதிகளாக்கினான் எனின், அவன் தயாரித்த மொத்த பொதிகளின் எண்ணிக்கை எத்தனை ?

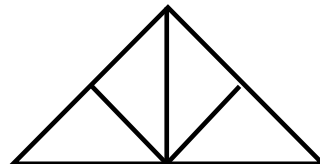
- 1) 28 2) 30 3) 33

32. 4 மனிதர்கள் 2 நாட்களில் மேசையொன்றை செய்து முடிப்பர். இவ்வேலையை 2 மனிதர்கள் எத்தனை நாட்களில் செய்து முடிப்பர் ?

- 1) 4 2) 6 3) 8

33. தரப்பட்டுள்ள உருவில் உள்ள முக்கோணிகளின் எண்ணிக்கை

- 1) 06
2) 07
3) 08



34. 9 8 72
8 7 56
7 6

1) 38

2) 36

3) 42

35.

8	7
20	5

12	8
30	10

15	7
...	9

1) 31

2) 27

3) 14

36.

1	2	4	7	11
---	---	---	---	----	------

1) 16

2) 9 22

3) 24

37.

8		6
	15	
9	

1) 7

2) 6

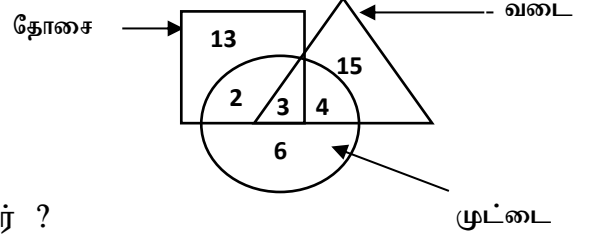
3) 5

38. பொதுவாக மூன்று வகையான உணவுகளையும் உண்பவர்கள் எத்தனை பேர் ?

1) 6

2) 4

3) 3



39. முட்டையை மாத்திரம் உண்பவர்கள் எத்தனை பேர் ?

1) 15

2) 2

3) 6

40. பின்வரும் பழங்களின் விலைகளைப் பரிசீலிக்குக.



+



= ரூபா 40.00



-



= ரூபா 20.00

அதன்படி, இரண்டு மாம்பழங்களின் விலை யாது ?

1) ரூபா 20.00

2) ரூபா 40.00

3) ரூபா 30.00

செய்கை வேலைக்கான பகுதி

பகுதி II

13. பந்தியை வாசித்து விடை தருக.

பச்சைப் பட்டாடை விரித்தாற் போல் காட்சி தரும் வயல்வெளிகளும், புல்வெளிகளும் காலை நேரத் தென்றலுக்குத் தலை அசைக்கின்றன. சில்லென வீசும் புதுத்தென்றல் புத்துணர்ச்சியூட்ட பசுக்களும் தாய்ப் பசுவை முட்டி, மோதி முந்திக்கொண்டு துள்ளிக் குதித்தோடும் பசுக் கன்றுகளும் புற்றரைகளை நோக்கி விரைந்து செல்கின்றன.

கடலுக்குச் சென்ற மீனவர்களின் வள்ளங்கள், அலைகளைக் கிழித்துக் கொண்டு கரையை நோக்கி வருகின்றன. அவர்களின் மனைவிமார் இறைவனுக்கு நன்றி கூறி, மீனவர்களது வரவை மகிழ்ச்சியுடன் எதிர்கொள்கின்றனர்.

1. உவமைத் தொடரினை எழுதுக?
2. காலப் பெயர்ச் சொல்?
3. இணைமொழிச் சொல்?
4. அலைகளைக் கிழித்துக்கொண்டு செல்வது எது?
5. சொற்களை சேர்த்தெழுதுக : புல் + தரை
6. பெயராகவும் வினையாகவும் வரும் சொல்?
7. உயர்திணை பெண்பால் பெயர்ச் சொல்?
8. மெதுவாக என்பதன் எதிர்க்கருத்து?
9. ஆழி என்பதன் ஒத்த சொல்?
10. களிப்புடன் என்பதன் சொல்?
11. இறைவனுக்கு நன்றி கூறுபவர்கள் யார்?
12. விசிறியும் சுழியும் கொண்ட சொல்?

02. வெற்றிடத்திற்குப் பொருத்தமான வினைச்சொல்லை அடைப்புக்குள் இருந்து தெரிவு செய்து அதன் கீழ் கோடிடுக.

- 1) தமிழ்மொழியில் பல சிறந்த நூல்கள் (உள்ளது / உள்ளன)
- 2) இராமனோடு இலக்குமணனும் சீதையும் காட்டுக்குச் (சென்றான் / சென்றனர்)
- 3) நேற்று நானும் எனது நண்பர்களும் பூங்காவுக்குச் (செல்வோம் / சென்றோம்)
- 4) கலைமானும் பிணைமானும் குளத்திலே நீர் (பருகியது / பருகின)
- 5) நாளை பரிசளிப்பு விழாவில் அதிபர் (உரையாற்றுவார் / உரையாற்றினார்)

03. கீழே தரப்பட்டுள்ளவற்றிற்கு அடைப்புக்குள் இருந்து பொருத்தமான சொல்லைத் தெரிவு செய்து, புள்ளிக் கோட்டின் மீது எழுதுக.

(பறவைகள், கதிரை, நாங்கள், நீ, மரங்கள், நீங்கள்)

- 1) உயர்திணை பன்மை முன்னிலைப் பெயர்ச்சொல் :
- 2) அஃறிணை ஒருமைப் பெயர்ச்சொல் :
- 3) தன்மை பன்மைப் பெயர்ச்சொல் :

04. பின்வரும் தொடர்களுக்குரிய தனிச்சொல்லை எழுதுக.

தசாப்தம் , கைதி , ஊதாரி

- 1) சிறைத் தண்டனை பெற்றவன் :
- 2) மற்றவர்களைப் பற்றிய அக்கறையில்லாதவன் :
- 3) பத்து ஆண்டுகள் கொண்ட ஒரு காலப்பகுதி :

05. பின்வரும் சுருக்கக் குறியீடுகள் உணர்த்தும் பொருளை விரித்து எழுதுக.

- 1) மு.ப :
- 2) ம.ப.பா :
- 3) இ.பு.தி :

06. பின்வரும் வாக்கியங்களில் தடித்த எழுத்துக்களில் உள்ள சொற்களின் கருத்தைப் புள்ளிக்கோட்டின் மீது எழுதுக.

- 1) சீகிரியா குகைச் சித்திரங்கள் உலகப் புகழ் பெற்றவை :
- 2) நல்ல நண்பனைப் போல நல்ல புத்தகமும் நல்வழி புகட்டும் :
- 3) காந்தியடிகள் சத்தியாக்கிரக வழியில் நின்று மக்களின் துயர் துடைக்க முனைந்தார் :
- 4) இசையை அனுபவித்த வண்ணம் குழந்தை உறங்கியது :

07. கீழே தரப்பட்டுள்ள வாக்கியங்களில் இருக்கும் வெற்றிடத்திற்கு பொருத்தமான சொல்லை அடைப்புக்குள் இருந்து தெரிவு செய்து அதன் கீழ்க் கோட்டுக.

- 1) சனிக்கிழமை தோறும் தலைக்கு (சிகைக்காய் / சீயாக்காய்) தேய்த்துக் குளிப்பது உடலுக்கு நன்மை தரும்.
- 2) மூச்செடுக்க முடியாது அவதிப்பட்டவனுக்கு (தலையணை / தலகணி) போட்டு படுக்க வைத்தனர்.
- 3) அவன் (கோடலி / கோடரி) கொண்டு மரத்தைத் தறித்தான்.

08. பின்வரும் ஆங்கில வாக்கியங்களின் கருத்தினை தமிழில் எழுதுக.

1. I am going out :

2. Please open your book :

09. சிங்கள வாக்கியத்தின் கருத்தினை தமிழில் எழுதுக.

1. கஹ பாட்டாய் :

2. சத்து வத்த(ட்)ட யமுத? :

10. பின்வரும் ஒவ்வொரு உருவுக்கும் பொருத்தமான ஆங்கிலச் சொல்லை (ஆங்கில எழுத்துக்களில்) எழுதுக.



.....

.....

11. “நான் நேசிக்கும் எனது தாய் நாடு”என்னும் தலைப்பில் மூன்று வாக்கியங்கள் எழுதுக. (ஒவ்வொரு வாக்கியத்திலும் ஐந்து சொற்களுக்கு மேல் இடம் பெறவேண்டும். எழுவாய், பயனிலைத் தொடர்புகள் சரியாக இருக்க வேண்டும்.)

1.

.....

2.

.....

3.

.....

• தரப்பட்ட வெற்றிடத்தில் விடையை எழுதுக.

1) இலக்கத்தில் எழுதுக. இரண்டாயிரத்து இருநூற்று ஐம்பது.....

2)


4	6
5	0

 இவ் நான்கு எண்களையும் பயன்படுத்தி உருவாக்கக் கூடிய மிகச் சிறிய எண்ணில் பத்தின் இடத்தில் அமைந்துள்ள இலக்கத்தின் பெறுமதி யாது?.....

3) கோலத்தின் அடுத்த இரண்டு எண்களையும் முறையே எழுதுங்கள்.

4520, 4540, 4560, 4580,.....

4) இப்படத்தில் $\frac{2}{10}$ பகுதி நிழற்றப்பட்டுள்ளது.



i. அதன் மேலும் 3 பகுதியை நிழற்றுங்கள்

ii. இப்போது நிழற்றாது காணப்படும் பகுதியை முழுவதின் பின்னமாக எழுதுங்கள்.....

5) ஐந்து நண்பர்கள் ஒவ்வொருவரிடம் இருந்தும் ரூபா 250.00 வீதம் சேகரித்த ரூபா 950.00 பெறுமதியான ஒரு கடிகாரத்தை வாங்கிக் கொண்டனர் எனின்,

i) கடிகாரத்தை வாங்கிய பின்பு மிகுதிப் பணம் எவ்வளவு?

6) 460 புத்தகங்கள் ஒருவருக்கு 4 புத்தகங்கள் வீதம் பிரித்தளிக்கப்பட்டன. புத்தகங்கள் பெற்ற மாணவர் தொகை யாது?

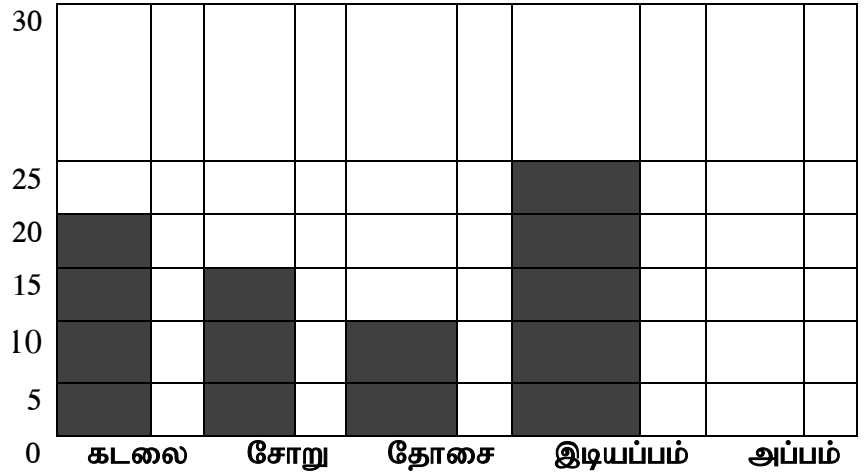
7) ஒரு பாத்திரத்தில் 41650 ml நீர் உள்ளது. அவ்வாறான 6 பாத்திரங்கள் உள்ளன. ஆறு பாத்திரங்களில் உள்ள நீரின் அளவு யாது?

8) ஒரு பக்கற்றில் 8 விசக்கோத்துக்கள் உள்ள 15 பைகளும் ஒரு பக்கற்றில் 12 விசக்கோத்துக்கள் உள்ள 7 பைகளும் உள்ளன. எல்லாப் பக்கற்றுகளிலும் உள்ள விசக்கோத்துகள் எத்தனை?

9) முக்கோண வடிவமுடைய நான்கு முகப்புகளைக் கொண்ட ஒரு திண்மப் பொருளின் பெயர் யாது?.....

10) வரைபைப் பார்த்து இடைவெளி நிரப்புக. II அட்டவனையைப் பார்த்து வரைபை பூர்த்தி செய்க.

உணவு வகை	விரும்பும் மாணவர் தொகை
கடலை	20
சோறு	15
தோசை	10
இடியப்பம்
அப்பம்	30



11) ஒரு தொட்டியில் 10l750Ml நீர் உள்ளது. அதில் மேலும் 10l750Ml நீர் சேர்க்கப்படின் இப்போது தொட்டியில் உள்ள மொத்த நீரின் அளவு யாது?

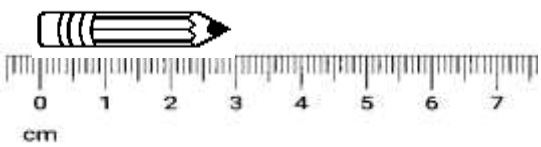


கடிகாரம் காட்டும் நேரம் யாது

.....

12) ஒரு பிள்ளைக்கு 4 வீதம், பாடசாலை ஒன்றிலுள்ள 145 பிள்ளைகளுக்கு வழங்க 490 புத்தகங்கள் மாத்திரம் இருந்தன. இன்னும் எத்தனை புத்தகங்கள் தேவை?.....

13)





வரிப்படத்தில் உள்ள பென்சிலின் நீளம்?

.....

14) 3 லீற்றர் நீரை ஐந்து குவளைகளில் சமமாக இடும் போது ஒரு குவளையில் இருக்கும் நீரின் அளவு யாது?.....

• சரியான விடையின் கீழ்க் கோடிடுக.

- 1)  உருவில் உள்ள உடுத்தொகுதியின் பெயர்
1. விருட்சிகம்
 2. வேட்டைக்காரன்
 3. தென்சிலுவை
 4. கலப்பை
- 2) நீண்ட காலம் பேணி வைப்பதற்காக மணலில் புதைத்து வைத்துப் பாதுகாக்கப்படுவது
1. பனங்கிழங்கு
 2. எழுமிச்சைபழம்
 3. பாகற்காய்
 4. பனம்பழம்
- 3) சோறு சமைப்பதற்காக அரிசியைக் களைவதற்குப் பொருத்தமான பாத்திரம்
1. பாளை
 2. மட்கோப்பை
 3. இரும்புச்சட்டி
 4. அரிக்கஞ்சட்டி
- 4) பின்வரும் விளையாட்டுக்களில் அதிக வருமானத்தை ஈட்டித்தரும் விளையாட்டு எது?
1. கரப்பந்தாட்டம்
 2. கிறிக்கெட்
 3. வலைப்பந்து
 4. எல்லே
- 5) சிகிரியா எம்பக்க தேவாலயம் என்பவை பிரசித்தி பெற்றமைக்கான காரணம்
1. வணக்கல் தலங்கள்
 2. கரையோர நகரங்கள்
 3. கலைத்துவப் படைப்புக்கள்
 4. இராசதானிகள்
- 6)  உருவில் உள்ளவர்
1. C.W.W. கன்னங்கரா
 2. அனகரிக தர்மபால
 3. கலாநிதி ஆனந்த குமர சுவாமி
 4. கொங்காலே கொடபண்டா
- 7) மிகவும் பிரபல்யமான இயற்கைத் துறைமுகம் காணப்படும் இடம்
1. கொழும்பு
 2. ஒலுவில்
 3. திருகோணமலை
 4. காலி
- 8) ஒல்லாந்தரினால் கட்டப்பட்ட புகழ்மிக்க கோட்டை காணப்படும் இடம்
1. காலி
 2. மன்னார்
 3. புத்தளம்
 4. நீர்கொழும்பு
- 9) இலங்கையில் உள்ள மாவட்டங்களில் பரப்பளவில் கூடிய பெரிய மாவட்டம்
1. கொழும்பு
 2. அனுராதபுரம்
 3. கண்டி
 4. யாழ்ப்பாணம்
- 10) புனித வெள்ளரசு மரம் எங்கே உள்ளது?
1. அனுராதபுரத்தில்
 2. கதிர்காமத்தில்
 3. பதுளையில்
 4. கம்பளையில்

11) மாணிக்க கங்கைக்கு அருகில் அமையப் பெற்றுள்ள புனித நகரம்

1. மிகிந்தலை 2. கதிர்காமம் 3. தம்பதெனிய 4. மிகிந்தலை

12) இலங்கையின் முதலாவது பண்டைய இராசதானி

1. கொழும்பு 2. கண்டி 3. அநுராதபுரம் 4. பொலன்னறுவை

13) உருவில் தரப்பட்டுள்ள விளையாட்டு




1. தாயம் போடுதல் 2. றபான் அடித்தல்
3. பல்லாங்குழி 4. சடுகுடு

14) பின்வரும் விளையாட்டுக்களில் கிராமிய விளையாட்டாக அமையாதது

1. சில்லுக்கோடு 2. தாயம் போடுதல் 3. கரப்பந்து 4. பசுவும் புலியும்

15) உருவில் உள்ள இலச்சினை எந்த நிறுவனத்திற்குரியது?

1. இலங்கை தபால் திணைக்களம்
2. இலங்கை ஒளிபரப்புக் கூட்டுத்தாபனம்
3. ஸ்ரீ லங்கா டெலிகொம்
4. ஸ்ரீ லங்கா எயார் லைன்ஸ்



16) விவசாயி ஒருவருக்கு அவசியமற்ற ஓர் உபகரணம்

1. சாந்தகப்பை 2. குப்பைவாரி 3. அரிவாள் 4. பரப்புப் பலகை

17) பாதுகாப்பிற்காக இடுப்புப் பட்டியைப் பயன்படுத்துவோர்

1. மீனவன் 2. தையற்காரன் 3. மின்தொழிலாளி 4. விவசாயி

18) உருவில் உள்ள பொலிஸ்காரரின் சைகை எதனைக் குறிக்கின்றது?

1. பின்னாலிருந்து வரும் வாகனங்களை மாத்திரம் நிறுத்தவும்
2. முன்னாலிருந்து வரும் வாகனங்களை மாத்திரம் நிறுத்தவும்
3. முன்னாலிருந்தும் பின்னாலிருந்தும் வரும் எல்லா வாகனங்களையும் நிறுத்தவும்
4. முன்னாலிருந்தும் பின்னாலிருந்தும் வரும் எல்லா வாகனங்களும் செல்லலாம்.



19) கரையில் கப்பல்கள் தரித்து நிற்பதற்குப் பயன்படுவது

1. படகு 2. கயிறு 3. நங்கூரம் 4. திசைகாட்டி

20) இரை கொண்டு சிறு மீன்களைப் பிடிப்பதற்கு மீனவர் பயன்படுத்தும் உபகரணம்


1. வலை 2. தூண்டில் 3. வீச்சுவலை 4. அத்தாங்கு

21) விவசாயி சூடடிக்கும் போது களத்தில் பயன்படுத்தும் ஓர் உபகரணம்

1. கலப்பை 2. மட்டக்கம்பு 3. மட்டப்பலகை 4. வேலைக்காரன் கம்பு

22) மஞ்சள் நிறப் பின்னணியில் காணப்படும் இவ் வீதிச் சமிக்ஞை எதனைக் குறிக்கின்றது?

1. முன்னால் வாகனங்களை நிறுத்தவும்
2. படலையுடன் கூடிய புகையிரதக் கடவை வீதிக்கு முன்னால்
3. பாதுகாப்பில்லாத புகையிரதக் கடவை வீதிக்கு முன்னால்
4. வீதி எதிரே மூடப்பட்டுள்ளது.



23) இப்படத்தில் காணப்படும் தாவரம்

1. மரமஞ்சள் 2. வெண் ஊமத்தை
3. மிளகு 4. எருக்கலை



24) சமாதானத்தைக் குறிக்கும் நிறம்

1. கறுப்பு 2. மஞ்சள் 3. பச்சை 4. வெள்ளை

25) ஆபத்து என்பதை உணர்த்தப் பயன்படுத்தும் நிறம்

1. சிவப்பு 2. கறுப்பு 3. ஊதா 4. பச்சை

26) நிறக் கடதாசித் துண்டுகளைக் கிழித்து ஒட்டுவதன் மூலம் ஆக்கப்படும் ஆக்கம்

1. கோட்டுச் சித்திரம் 2. அல்பனா ஆக்கம் 3. கொலாஜ் 4. முத்திரை பதித்தல்

27) உருவில் உள்ள விளையாட்டு



1. கூடைப்பந்து 2. ஹோக்கி
3. உதைப்பந்து 4. டென்னிஸ்

28) கடதாசிகளை மடித்து பிராணிகளின் உருவங்களை ஆக்கும் முறை அழைக்கப்படுவது

1. ஓரிகாமி 2. கொலாஜ் 3. கரை அலங்காரம் 4. அச்சுப் பதித்தல்

29) பாம்பாட்டி பயன்படுத்தும் ஓர் இசைக்கருவி

1. கொம்பு 2. மகுடி 3. கிட்டார் 4. புல்லாங்குழல்

30) உருவில் உள்ள ஆணியைக் கழற்றவும் இறுக்கவும் மிகப் பொருத்தமானது



1.



2.



3.



4.

