


புலமை அறிவு



தரம்

5

2020 புலமைப்பரிசில் பரீட்சை எழுதும்
மாணவர்களுக்கான முன்னோடிப் பரீட்சை 04

ஆசிரியர்

திரு. ந. மனோகரன் BA, Dip in Teach , SLTS II

(புலமை அறிவு வினாத்தாள் ஆசிரியர் -

(புலமைச் சுடர், மலைமுரசு, ஒளி அரசு புலமைப் பரிசில்,
கிழக்கு மாகாணம் - வினாத்தாள் ஆசிரியர்)

தி/ஸ்ரீ சண்முக கிந்து மகளிர் கல்லூரி (தேசிய பாடசாலை)

**MISTAKES
ARE PROOF THAT
YOU ARE
TRYING**

மாணவர் பெயர்

புள்ளித்திட்டம்

பகுதி I

பகுதி II

மொத்தம்

- 01ம், 02ம் வினாக்களுக்கு முதலில் தரப்பட்டுள்ள உருவோடு தொடர்புடைய பொருத்தமான உருவைத் தெரிவு செய்து கோடிடுக.

01.



உரு



1




2




3


02.



உரு



1



2



3

- தரப்பட்டுள்ள மரபுத் தொடருக்குப் பொருத்தமான கருத்தினைத் தெரிவு செய்க.

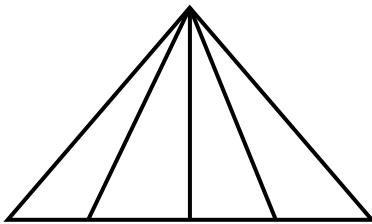
03. கீரியும் பாம்பும் போல

- 1) ஒன்றாக சேர்தல்
- 2) ஒருவருக்கொருவர் நன்றாகப் பொருந்துதல்
- 3) இருவருக்குள் இருக்கும் கோபம்

04. நாக்கு நீளுதல்

- 1) முடியாத செயலைச் செய்தல்
- 2) அடக்கமின்றிப் பேசுதல்
- 3) வார்த்தைக்கு மட்டும் மட்டுப்படுத்தப்பட்ட சொல்

05.



உருவிலுள்ள முக்கோணிகளின் எண்ணிக்கை எத்தனை?

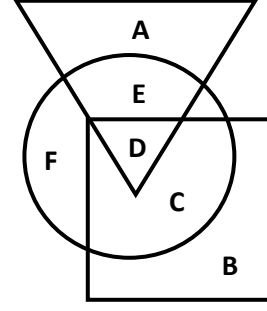
- 1) 10
- 2) 11
- 3) 12

06. நாளை மறுதினம் 24ஆம் திகதி வெள்ளிக்கிழமை ஆயின், நேற்றைக்கு முதல்நாள் என்னநாள்? என்ன திகதி?

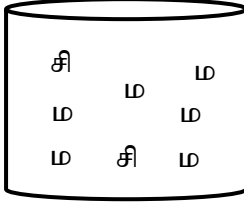
- 1) திங்கள் 20
- 2) ஞாயிறு 21
- 3) சனி 19

14. முக்கோணம், சதுரம், வட்டம் ஆகிய மூன்று வடிவங்களுக்கும் உரிய ஆங்கில எழுத்து?

- 1) D
- 2) C
- 3) E



15.



சிவப்பு நிற மாபிள் ஒன்றை வெளியே எடுக்க வேண்டும் எனின், எத்தனை மாபிள்கள்களை வெளியே எடுக்க வேண்டும்?

- 1) 05
- 2) 06
- 3) 07

16. பீங்கான் ஒன்றிலுள்ள இனிப்புப் பண்டங்கள் முறையே லட்டு, அப்பம், பலகாரம், முறுக்கு முறையே ஆகும். எனின் 52 ஆவதாக வரும் இனிப்பு வகை எது?

- 1) பலகாரம்
- 2) முறுக்கு
- 3) லட்டு

17. இரகசிய குறியீட்டால் குறிப்பிடப்பட்டிருக்கும் இதன் சரியான விடை எதுவாக இருக்கும்?

- 1) 446541
- 2) 773643
- 3) 997973



18. 220 – 225 வரையான இலக்கங்களை எழுதும் போது இலக்கம் 2 எழுதப்படும் எண்ணிக்கையாது ?

- 1) 12
- 2) 14
- 3) 13


19. ஒரு குளிர்்பானப் போத்தல் 5 பேரை உபசரிக்க போதுமானது எனின், 27 பேரை உபசரிக்கத் தேவையான குளிர்்பானப் போத்தல்கள் எத்தனை?

- 1) 05
- 2) 06
- 3) 07


20. கீழே தரப்பட்டுள்ள பொருட்களை இரண்டு பிரிவுகளாகப் பிரித்துக் கொள்ளலாம்




A



B



C

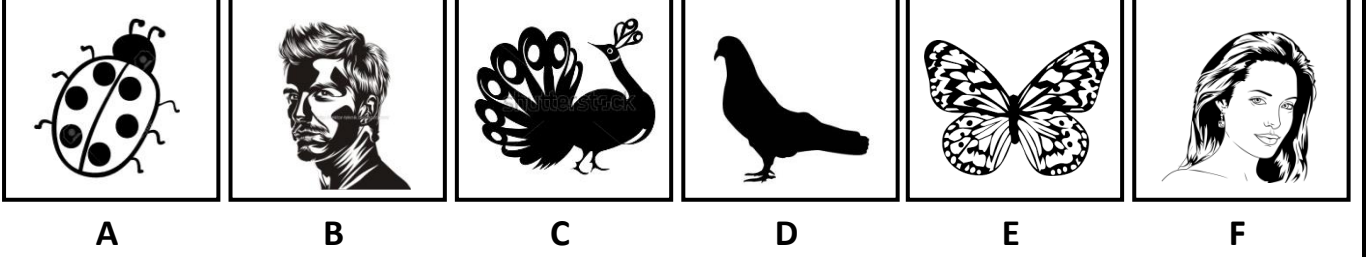


D

அவ்விரு பிரிவுகளும் முறையாகப் பிரிக்கப்பட்டுள்ள விதம்

- 1) AD, BC
- 2) AB, CD
- 3) AC, BD

21. கீழே காட்டப்பட்டிருக்கும் விலங்கினங்களை மூன்று தொகுதிகளாகப் பிரிக்கலம்



அம் மூன்று தொகுதிகளுமாவன

- 1) AB, CD, EF 2) AE, BF, CD 3) AC, BF, BE

22. பின்வரும் கார்ட்போட் துண்டுகளில் எண்கள் எழுதப்பட்டுள்ளது. ஒரு கோலத்திற்கேற்பவாகும். அதன்படி வெற்றிடத்திற்குப் பொருத்தமான எண்ணைத் தெரிவு செய்க.

2	4	8	16	32
1	4	9		25

- 1) 12 2) 18 3) 16

23. பிள்ளையொன்று பாய்ந்து சென்ற ஒழுங்குமுறை 1, 3, 6, 10, என்ற வகையில் காட்டப்பட்டுள்ளது எனில், 5 வது பாச்சலில் பாயும் போது எந்த இலக்கத்தில் நிற்கும்?

- 1) 19 2) 20 3) 21

• கடல் என்பது KDL எனவும் கரம் என்பது KRM எனவும் குறிக்கப்படின,


24. கடகம் என்பதை சரியாகக் குறிக்கப் பயன்படும் எழுத்துக்கூட்டம் எது?

- 1) KLSM 2) KDKM 3) KRUM


25. VDKM என்து குறித்து நிற்கும் சொல்?

- 1) கடகம் 2) வடகம் 3) கரகம்

• பின்வரும் தகவல்களை நன்கு பரிசீலிக்குக.



ரூபா 40.00



ரூபா 60.00

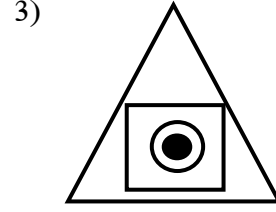

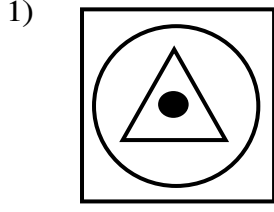
26. மேலே தகவல்களின்படி பேனையொன்றின் விலை?

- 1) ரூபா 30.00 2) ரூபா 15.00 3) ரூபா 10.00

27. கமல், மேல் மாகாணத்தின் களுத்துறை மாவட்டத்தில் ரயகம கிராம சேவை பிரிவில் வெலிகம என்னும் ஊரில் பிறந்தார். அவை பின்வருமாறு அடையாளமிடப்பட்டுள்ளன.

● ஊர் ○ மாகாணம் △ கிராம சேவை பிரிவு □ மாவட்டம்

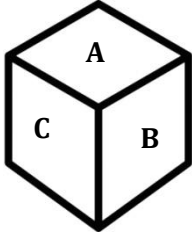
கமலின் ஊரினை சரியாகக் காட்டு உரு எது ?



28. மூன்று மனிதர்கள் 10 நாட்களில் செய்து முடிக்கத் திட்டமிடப்பட்டிருந்த வேலை ஒன்றை 5 மனிதர்கள் எத்தனை நாட்களில் செய்து முடிப்பர்?

- 1) 5 நாட்கள் 2) 6 நாட்களில் 3) 8 நாட்களில்

29. இச்சதுரமுகியில் A பக்கம் காட்டப்படும் தோற்றம்



- 1) கிடைப்பக்கம் / திட்டம்
2) பக்கத்தோற்றம்
3) முன்பக்கத்தோற்றம்

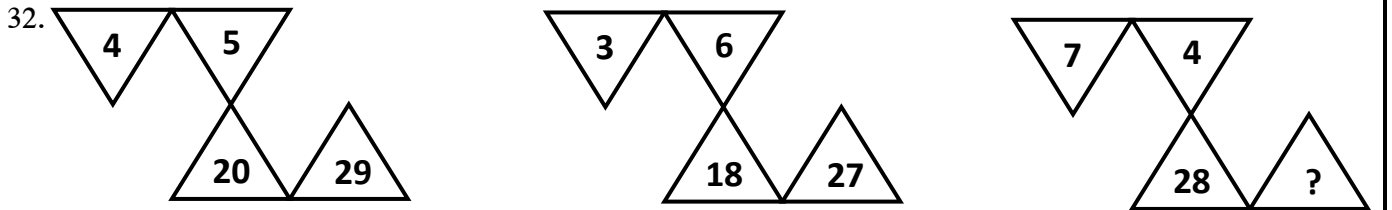
30. 10 முட்டைகள் அவிய 10 நிமிடம் தேவை எனின், ஒரு முட்டை அவிய தேவையான நேரம் யாது?

- 1) 10 நிமிடம் 2) 20 நிமிடம் 3) 100 நிமிடம்

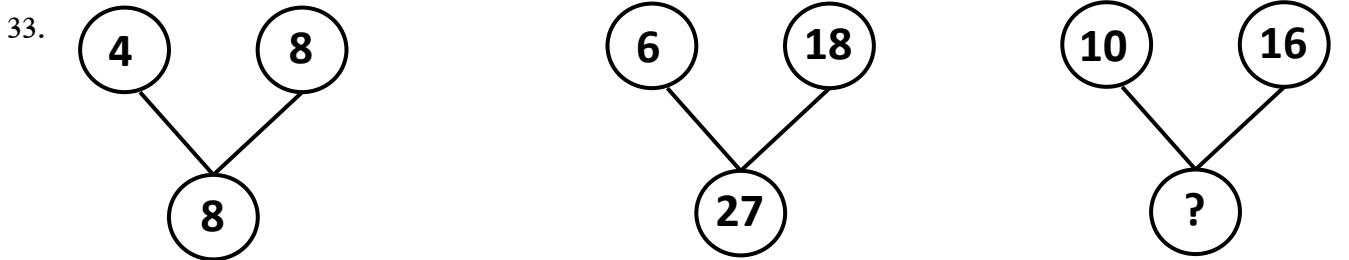
31. சுகுனா வரிசையொன்றில் தனக்கு முன் 11 பேர் நின்றனர் என்றும் பின்னால் இருந்து தான் 13ஆவதாக நின்றேன் எனவும் கூறினாள். ஏனின், அவ் வரிசையில் எத்தனை பேர் நின்றனர்?

- 1) 25 2) 24 3) 23

• வெற்றிடத்திற்குப் பொருத்தமான பெறுமானத்தை தெரிவு செய்க.



- 1) 42 2) 39 3) 46



- 1) 40 2) 50 3) 36

செய்கை வேலைக்கான பகுதி

- பின்வரும் பந்தியை வாசித்து விடை தருக.

வண்ணத்துப்பூச்சி கூறத்தொடங்கியது. நாங்கள் பூக்களில் உள்ள தேனைக் குடிப்பவர்கள். எங்கள் குடும்பம் மிகவும் பெரியது. அழகிய நந்தவனமே எங்கள் இருப்பிடம். நீண்ட நாட்களாக நாங்கள் ஒற்றுமையாக அந்த நந்தவனத்தில் வசித்து வந்தோம். வண்ண வண்ணப் பூக்களில் மணமும் எமது அழகும் காண்போரைப் பரவசப்படுத்தும். அண்மையில், நாங்கள் குடியிருந்த நந்தவனம் சில மனிதர்களால் அழிக்கப்பட்டது. இதனால் எமது உறவினர்கள் வெவ்வேறு திசைகளை நோக்கிப் பிரிந்து சென்றுவிட்டனர்.

- தன்மைப் பன்மைப் பெயர்ச்சொல்?
- கீழ்க்காலும் சுழியும் கொண்ட சொல்?
- எழில் என்பதன் ஒத்த சொல்?
- அருகில் என்பதன் ஒத்த சொல்?
- காலப் பெயர்ச் சொல்?
- வண்ணத்துப் பூச்சியின் பிரதான உணவு எது?
- தோட்டம் என்பதன் ஒத்த சொல்?
- வேற்றுமையாக என்பதன் எதிர்க்கருத்து?
- காண்போரை பரவசப்படுத்துவது எது?
- அடுக்குமொழிச் சொல்?
- இடப் பெயர்ச் சொல்?

02. கீழே தரப்பட்டுள்ள வாக்கியங்களில் இருக்கும் வெற்றிடத்திற்குப் பொருத்தமான சொல்லின் கீழ் கோடிடுக.

- கைப் புண்ணுக்கு (கண்ணாடி, கன்னாடி) வேண்டுமா?
- உள்ளங்கை நெல்லிக் (கனி, கணி) போல
- காலையில் சூரிய (ஒளி, ஒலி) பிரகாசித்தது.
- நாம் சுவாசிக்கும் (வளி, வலி) மாசடையாது பாதுகாப்போம்.
- தோமஸ் அல்வா எடிசன்யில் ஈடுபட்டார். (ஆராச்சி, ஆராய்ச்சி)

03. கீழே தரப்பட்டுள்ள சொற்றொடர்களுக்குரிய தனிச்சொல்லைப் புள்ளிக் கோட்டின் மீது எழுதுக.

- நாட்டிற்கு விரோதமாக நடத்தல் :
- பொருள் ஒன்றுடன் வேறு ஒரு பொருளைக் கலந்து விடுதல் :
- கல்வித் துறையில் பல மேற்படிப்புப் பயிலும் இடம் :
- வழக்கை தாக்கல் செய்பவன் :
- தாய் தந்தையை இழந்தவன் :

(வாதி, பல்கலைக்கழகம், அநாதை, தேசத்துரோகம், கலப்படம்)

03. வெற்றிடத்திற்குப் பொருத்தமான விடையை அடைப்புகளிலிருந்து தெரிவு செய்து அதன் கீழ்க் கோடிடுக.


- i) சுவை, ஒளி, ஊறு, ஓசை, நாற்றம் இவை ஐந்தும் (ஐம்பொறி, ஐம்புலன்) ஆகும்.
- ii) பொன் விழா என்பது (75, 50, 60)வது ஆண்டு இறுதியில் எடுக்கப்படும் விழா ஆகும்.
- iii) ஒரு தண்டிலே பல மலர்கள் மலர்ந்துள்ள பூங்கொத்து (பூஞ்சோலை, மஞ்சரி) ஆகும்.

05. ஒவ்வொரு படத்துக்கும் பொருத்தமான ஆங்கிலப் பெயரை ஆங்கில எழுத்துக்களில் எழுதுக.

i)



ii)



06. பின்வரும் சொற்களின் கருத்தினை ஆங்கிலத்திற்கு மாற்றி ஆங்கில எழுத்துக்களில் எழுதுக.

- i) தொலைபேசி :
- ii) மீன் :

07. பின்வரும் வாக்கியங்கள் சிங்களத்தில் சொல்லப்படும் விதத்தை தமிழ் எழுத்துக்களில் எழுதுக.

- i) வேகமாக ஓடுங்கள் :
- ii) இன்று சனிக்கிழமை :

08. கீழ்வரும் சொற்களை ஆராய்ந்து வினாக்களுக்கு விடை தருக.

நூலகம், பூக்கள், மீன், கொக்கு, கோழி

- i) விசிறியும் சுழியும் கொண்டமைந்த ஒரு சொல் எது?
- ii) மடக்கேறும் அரவும் கொண்டமைந்த சொல் எது?
- iii) கீழ்க்காலும் சுழியும் கொண்ட சொல் எது?
- iv) இரட்டைக் கொம்பும் அரவும் கொண்ட சொல் எது?
- v) ஒற்றைக் கொம்பும் அரவும் கொண்ட சொல் எது?

09. பின்வரும் ஒவ்வொரு பழமொழியினதும் மீதிப் பகுதியைப் பூரணப்படுத்துக.

i) அகத்தின் அழகு

ii) கடுகு சிறிதாயினும்

iii) அடம்பன் கொடியும்

10. பின்வரும் ஒவ்வொரு பாடலினதும் நான்காவது வரியைப் பூரணப்படுத்துக.

i) பாதையில் நாமும் போகையிலே
பார்த்துக் கவனமாய்ச் சென்றிடுவோம்
வீதியொழுங்கைப் பேணி நிதம்
.....

ii) கவனம் எங்கும் சிதறாமல்
பாதையில் வலப்புறம் நடந்திடுவோம்
வெள்ளைக் கோட்டைக் கவனிப்போம்
.....

11. “சூழலைச் சுத்தமாக வைத்திருப்போம்” என்ற தலைப்பில் சரியான எழுவாய் பயனிலை புலப்படும் வகையில் மூன்று வாக்கியங்கள் எழுதுக. ஒவ்வொரு வாக்கியத்திலும் ஐந்து சொற்களுக்குக் குறையாதவாறு அமைத்தல் வேண்டும். (எழுத்துப் பிழைகள் இருப்பின் புள்ளி வழங்கப்படமாட்டாது)

1.
.....
2.
.....
3.
.....

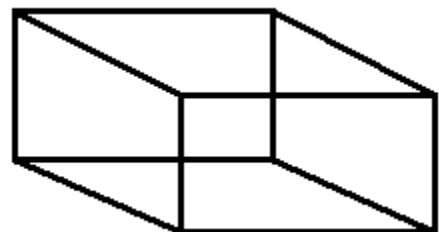
01. பின்வரும் கணிதச் செய்கைகளுக்கான விடையை புள்ளிக் கோட்டில் எழுதுக.

1) சொற்களில் எழுதுக.
2403 :

2) இலக்கங்களில் எழுதுக.
முவாயிரத்து இருபத்தேழு :

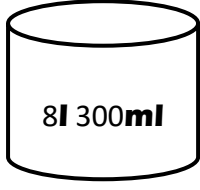
3) கனவுரு ஒன்றிலுள்ள,
i) உச்சிகளின் எண்ணிக்கை யாது?

ii) முகங்கள், விளிம்புகளின் எண்ணிக்கையின் கூட்டுத்தொகை யாது?

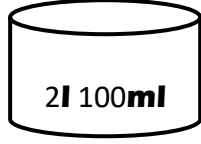


4) XI + IX இன் பெறுமதியை உரோமன் இலக்கத்தில் எழுதுக ?

5)



A



B

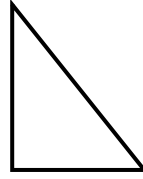
B பாத்திரத்தைவிட A பாத்திரத்தில் உவ்வளவு நீர் அதிகம்?

.....

6) தரப்பட்ட உருக்களினுள்ளே உத்தனை செங்கோணங்கள் உள்ளன என எழுதுக.



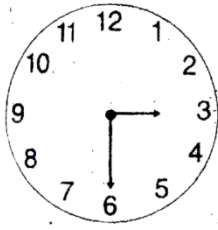
.....



.....

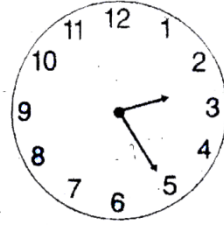
7) கடிகார முகங்கள் காட்டும் நேரங்களை எழுதுக

(i)



..... மணி

(ii)

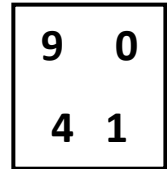


..... மணி

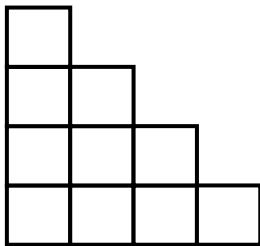
8) எண்கோலத்தில் அடுத்துவரும் இரு எண்களையும் எழுதுக.
2025, 2000, 1975, 1950,,

9) இவ்நான்கு இலக்கங்களையும் பயன்படுத்தி உருவாக்கக்கூடிய மிகச்சிறிய இலக்கம் யாது ?

.....



10)



i) தரப்பட்டுள்ள உருவில் $\frac{4}{10}$ பங்கை நிழற்றுக.

ii) அதில் நிழற்றப்படாமல் எஞ்சியுள்ள பகுதியைப் பின்னமாகத் தருக.

.....


11) நிமலின் வீட்டிலிருந்து பாடசாலைக்குள்ள தூரம் 2Km 800m. அவன் 900m தூரத்தை நடந்தும் மிகுதித் தூரத்தை பேருந்திலும் வருவான். அவன் பேருந்தில் பயணம் செய்த தூரம் யாது ?

.....

12) குவியல் ஒன்றில் 336 அன்னாசிப் பழங்கள் உள்ளன. அவை 3 பெட்டிகளில் சமனாக அடுக்கப்பட்டன. ஒரு பெட்டியில் இருக்கும் அன்னாசிப் பழங்கள் எத்தனை ?

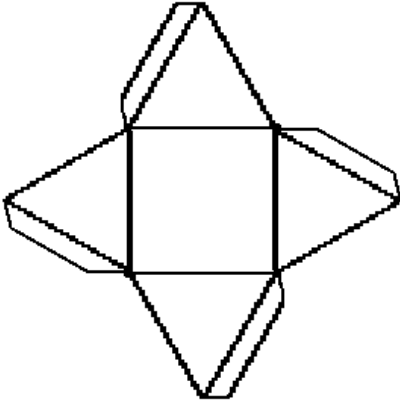
.....

13) கடிகார முட்கள் அமைந்திருக்கும் கோணம் யாது ?



.....

14) கீழே விரித்து வைக்கப்பட்ட தளவுரு ஒன்று தரப்பட்டுள்ளது.



i) இதனை மூடிப் பெறப்படும் தளவுருவின் பெயரை எழுதுக ?

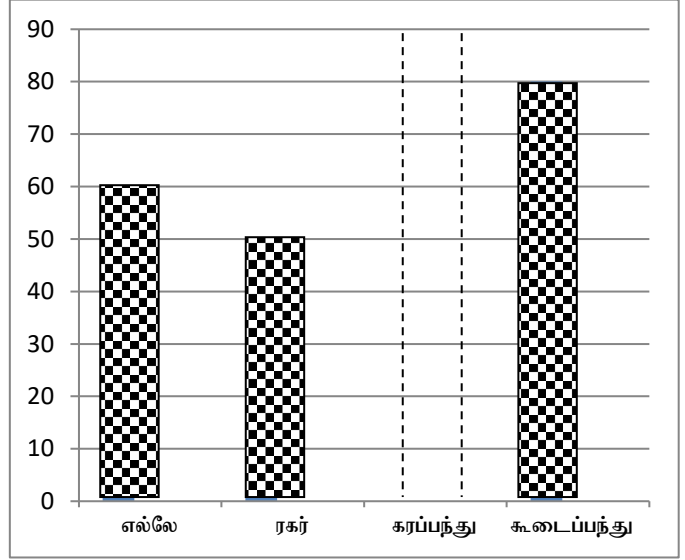
.....

ii) இதனை மூடுவதன் மூலம் பெறப்படும் தளவுருவின் விளிம்புகள் எத்தனை ?

.....


15) ஒரு குறித்த பாடசாலையின் பிள்ளைகளிடம் அவர்கள் மிகவும் விரும்பும் விளையாட்டுக்கள் பற்றி வினவப்பட்டது. அதன் மூலம் பெறப்பட்ட தகவல்களை கீழே காணலாம்.

விளையாட்டு	எண்ணிக்கை
எல்லே	60
ரகர்
கரப்பந்து	75
கூடைப்பந்து	80



- வரைபில் உள்ள தகவலுக்கேற்ப அட்டவணையில் இருக்கும் வெற்றிடத்தை நிரப்புக.
- அட்டவணையில் உள்ள தகவல்களுக்கு ஏற்ப வரைபைப் பூரணப்படுத்துக.


01. பின்வரும் வினாக்களுக்கு சரியான விடையின் கீழ் கோடிடுக.

- இலங்கைக்குரிய தாவரம்?
 - 1) தென்னை
 - 2) தேயிலை
 - 3) வாழை
 - 4) எண்ணை
- காற்றின் மூலம் பரவும் வித்து அல்லாதது?
 - 1) இலவம்
 - 2) தாமரை
 - 3) எருக்கலை
 - 3) தணக்கு
- பின்வருவனவற்றுள் நீல நிறப் பூ?
 - 1) காக்கணம் பூ
 - 2) அந்தூரியம்
 - 3) பாகல்
 - 4) அவரை
- யானைக்கால் நோயை உண்டுபண்ணும் நுளம்பு?
 - 1) ஈடிஸ்
 - 2) அனோபிலஸ்
 - 3) கியூலக்ஸ்
 - 4) வீட்டு ஈ
- 

படத்தில் காட்டப்பட்டுள்ள பாதம் எப்பறவையினுடையது?

 - 1) காகம்
 - 2) மீன்கொத்தி
 - 3) மரங்கொத்தி
 - 4) தேன்சிட்டு
- முட்டைகள் வெடித்து எது வெளிவருவது?
 - 1) குடம்பி
 - 2) கூட்டுப்புழு
 - 3) உடல்
 - 4) முதிர் உரு
- குப்பை கூளங்களில் பெருகும் பிராணி?
 - 1) தேன்
 - 2) வீட்டு ஈ
 - 3) குளவி
 - 4) கரப்பான்
- காந்தம் கவரக்கூடிய பொருள் எது?
 - 1) பாதணி
 - 2) குண்டுசி
 - 3) கடதாசி
 - 4) அழிப்பான்

9.



இவ்வுபகரணம் பயன்படுத்தப்படுவது?

- 1) தச்சுத் தொழிலில்
- 2) நெசவுத் தொழிலில்
- 3) விவசாயத் தொழிலில்
- 4) மட்பாண்டத் தொழிலில்

10. பின்வருவனவற்றுள் ஒரு அணில் ஒருவர் மாத்திரம் பங்குபெறும் விளையாட்டு எது?

- 1) சதுரங்கம்
- 2) எல்லே
- 3) ஈட்டி எறியதல்
- 4) கபடி

11. உடலில் புல்லெண்ணெய்யை தேய்த்துக் கொள்ளல், துளசி இலைகளை எரித்துப் புகையூட்டல் போன்ற செயற்பாடுகளைச் செய்வது எந்தப் பிராணியின் தொல்லைகளிலிருந்து தப்பித்துக் கொள்வதற்காகும்?

- 1) நுளம்பு
- 2) ஈ
- 3) நாய்
- 4) எலி

12. நிலத்தில் விழும் கழிவுப் பொருட்களை சின்னஞ் சிறு துண்டுகளாக்கி உக்குவதற்கு உதவுவது?

- 1) மண்புழு, கறையான்
- 2) காகம், கோழி
- 3) எலி, பாம்பு
- 4) நாய், பூனை

13. அழகுக்களை உண்டு சூழலை சுத்தப்படுத்தும் பறவை

- 1)
- 2)
- 3)
- 4)



14. பாரமான பொருட்களை ஏற்றவும் / இறக்கவும் உதவும் பிராணி?

- 1) யானை
- 2) குதிரை
- 3) கஸ்தூரிமான்
- 4) மரை

15. எந்த விலங்கிலிருந்து வாசனைத் திரவியத்தைப் பெற்றுக் கொள்ளலாம் ?

- 1) கஸ்தூரிமான்
- 2) யானை
- 3) மரை
- 4) புலி

16. பின்வரும் எந்தப் பிராணியின் அழகினால் சூழல் அழகு பெறும் ?

- 1) வண்ணத்துப்பூச்சி
- 2) குளவிகள்
- 3) வெட்டுக்கிளி
- 4) வண்டு

17. மனிதரையும் மனிதருடைய பொருட்களையும் இடத்திற்கு இடம் கொண்டு செல்லப் பயன்படுத்திய விலங்கு

- 1) ஒட்டகச்சிவிங்கி
- 2) எருது
- 3) வரிக்குதிரை
- 4) யானை

18. விவசாய நடவடிக்கைகளுக்கு உதவும் விலங்கு

- 1) குதிரை
- 2) கழுதை
- 3) ஒட்டகம்
- 4) எருது

19. பின்வரும் எத்தாவரம் அளவுக்கு அதிகமாக காணப்படுமானால் அது சூழலின் சமநிலையைப் பாதிக்கும் ?

- 1) மூக்குத்திப்பூண்டு
- 2) ஆனைவணங்கி
- 3) நாயுருவி
- 4) நாய்வாலி

20.



இப்போக்குவரத்துப் பொலிசாரின் சைகை குறித்து நிற்பது

- 1) முன்னே வாருங்கள்
- 2) பின்னால் வரும் வாகனங்களை நிறுத்துங்கள்
- 3) முன்னால் வரும் வாகனங்களை நிறுத்துங்கள்
- 4) நிறுத்துங்கள்

21. இலங்கையையும் இந்தியாவையும் பிரிக்கும் நீரிணை

- 1) பாக்கு நீரிணை
- 2) மன்னார் நீரிணை
- 3) மகாவலி கங்கை
- 4) அயேஸ் நீரிணை

22. தேசப்படங்களில் குளம், ஆறு, கடல் போன்றவற்றைக் குறித்துக்காட்ட பயன்படும் நியம நிறம் எது ?

- 1) பச்சை
- 2) கறுப்பு
- 3) நீலம்
- 4) சிவப்பு

23. யானைகள் சரணாலயம் அமைந்துள்ள இடம் ?

- 1) தெஹஸவளை
- 2) குமண
- 3) பின்னவல
- 4) யால

24. கிழக்கு மாகாணத்தில் கடலுடன் கலக்கும் ஆறு

- 1) மகாவலிகங்கை
- 2) நில்வளகங்கை
- 3) களனி கங்கை
- 4) களு கங்கை

25. நாம் தனிப்பட்ட முறையில் பயன்படுத்தும் பாவனைப் பொருள் அல்லாதது

- 1)
- 2)
- 3)
- 4)



26. உடற்பயிற்சி செய்வதற்கு மிகச் சிறந்த நேரம்

- 1) காலை
- 2) பகல்
- 3) மாலை
- 4) இரவு

27. இலங்கையின் தேசிய சின்னம் அல்லாதது

- 1) மகாவலி கங்கை
- 2) காட்டுக்கோழி
- 3) நீலோற்பலம்
- 4) நாகமரம்

28. யால,வில்பத்து ஆகிய இடங்கள் மிக பிரசித்தமானது

- 1) சரணாலயங்களினால்
- 2) பூஞ்சோலையினால்
- 3) வனங்களினால்
- 4) மலைகளினால்

29. பரிதி வட்டம் எறிதல் விளைட்டைக் காட்டும் உரு

- 1)
- 2)
- 3)
- 4)



30.



நங்கூரம் பயன்படுத்தப்படுவது

- 1) தொடருந்தை நிறுத்தி வைப்பதற்கு
- 2) பேருந்தை நிறுத்தி வைப்பதற்கு
- 3) கப்பலை நிறுத்தி வைப்பதற்கு
- 4) மகிழுந்தை நிறுத்தி வைப்பதற்கு