

புலமை அறிவு



தரம்



2020 புலமைப்பரிசில் பரீட்சை எழுதும்
மாணவர்களுக்கான முன்னோடிப் பரீட்சை 03

ஆசிரியர்

திரு. ந. மனோகரன் BA, Dip in Teach , SLTS II

(புலமை அறிவு வினாத்தாள் ஆசிரியர் -

(புலமைச் சுடர், மலைமுரசு, ஒளி அரசு புலமைப் பரிசில்,
கிழக்கு மாகாணம் - வினாத்தாள் ஆசிரியர்)

தி/ஸ்ரீ சண்முக கிந்து மகளிர் கல்லூரி (தேசிய பாடசாலை)

**MISTAKES
ARE PROOF THAT
YOU ARE
TRYING**

மாணவர் பெயர்

.....

புள்ளித்திட்டம்

பகுதி I

பகுதி II


மொத்தம்

- 1 ஆம் 2 ஆம் வினாக்களில் சொற்களுக்குப் பொருத்தமான உருவைத் தெரிவு செய்க.


01. அறிவு , ஒலி , ஒளி , மின்சாரம்



(1)



(2)




(3)

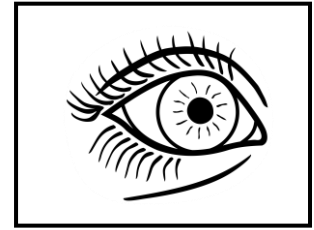
02. வெளிச்சம், எரிபொருள் , புகை , வெப்பம்



(1)




(2)




(3)

- ஒரே கூட்டத்தைச் சேர்ந்த பொருட்கள் இடம்பெறும் விடயத்தைத் தெரிவு செய்க.


03.



(1)



(2)

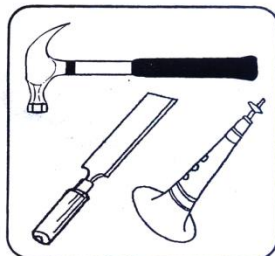


(3)


04.



(1)



(2)



(3)

05. “அழுத பிள்ளை பால் குடிக்கும்” என்ற பழமொழியின் கருத்து

- 1) சந்தர்ப்பத்தை தவற விடக்கூடாது.
- 2) முயற்சி செய்தவர் பயன் பெறுவர்
- 3) வறுமையிலும் செம்மையாக வாழ வேண்டும்.

06. “எல்லை கடந்த ஆசை ஒருவனுக்கு துன்பம் தரும்” என்ற கருத்தை தரும் பழமொழி

- 1) ஆத்திரக்காரனுக்குப் புத்தி மத்திமம்
- 2) இக்கரை மாட்டிற்கு அக்கரை பச்சை
- 3) அளவுக்கு மிஞ்சினால் அமிர்தமும் நஞ்சு

- பின்வரும் குறியீடுகளைப் பயன்படுத்தி சரியான விடையைத் தெரிக.

$$\star = \triangle \triangle \triangle$$

$$\triangle = \bigcirc \bigcirc \bigcirc$$

$$\textcircled{8} = \textcircled{2} \star \textcircled{2} \star \textcircled{2} \star \textcircled{2} \star$$

07. இங்கு \star ன் பெறுமானம் 2 எனின், \triangle இன் பெறுமானம் யாது ?

- 1) 24
- 2) 36
- 3) 48

08. இக்குறியீடுகளில் பெறுமதி கூடிய உரு எது ?

- 1) \star
- 2) \triangle
- 3) \bigcirc

- A , B , C , D , E , F ஆகிய எழுத்துக்கள் முறையே 4, 3, 5, 2, 1, 6 ஆகிய இலக்கங்களுக்காகப் பயன்படுத்தப்பட்டுள்ளன. இதற்கேற்ப

09. CBF – DEF =

- 1) 322
- 2) 563
- 3) 234

10. AC – B =

- 1) EC
- 2) CB
- 3) EF

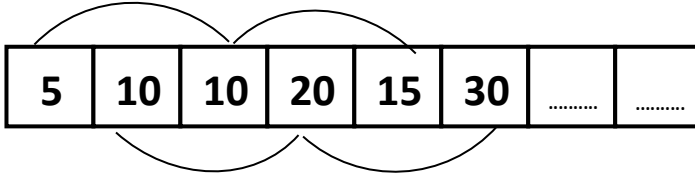
11. ஒரு மாம்பழமும் ஓர் அப்பிள் பழமும் ரூபா 50.00 ஆகும். மாம்பழத்தின் விலையை விட அப்பிள் பழத்தின் விலை ரூபா 10.00 அதிகம் எனின், மாம்பழத்தின் விலை எவ்வளவு ?

- 1) ரூபா 15.00
- 2) ரூபா 20.00
- 3) ரூபா 30.00

12. 100 தொடக்கம் 110 வரையுள்ள எண்களை எழுதும் போது பூச்சியம் எழுதப்படும் தடவைகளின் எண்ணிக்கை யாது ?

- 1) 10
- 2) 12
- 3) 13

19.



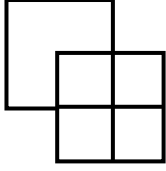
1) 20, 40

2) 20, 25

3) 15, 20

• சரியான விடையைத் தெரிவு செய்க.

20.



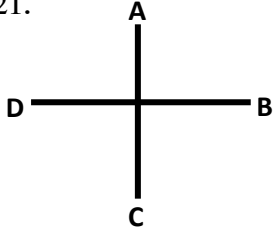
இவ்வுருவில் உள்ள சதுரங்கள் எத்தனை ?

1) 5

2) 6

3) 7

21.



இங்கு A, B குறிக்கும் திசைகள் யாது ?

1) கிழக்கு, வடக்கு

2) தெற்கு , கிழக்கு

3) வடக்கு , கிழக்கு

22. இவ்வுருவில் உள்ள செவ்வகங்கள் எத்தனை ?

1) 3

2) 5

3) 6



23. ABC = CBA எனின், KLM = புள்ளிக் கோட்டில் வரவேண்டிய விடை

1) MLK

2) MKL

3) LMK

24. கிணறு ஒன்றில் எப்போதும் இருப்பது எது ?

1) வாளி

2) தண்ணீர்

3) ஆழம்

25. பாடசாலையில் அதிகம் இருப்பவர்கள் யாவர் ?

1) ஆசிரியர்கள்

2) அதிபர்

3) மாணவர்கள்

• கீழுள்ள கணிதச் செய்கைகளில் புள்ளிக் கோட்டப்பட்ட இடத்தில் வரவேண்டிய விடையினைத் தெரிவு செய்து கோடிடுக.

$$\square + \square = 20 \quad \bigcirc - \square = 2$$

26.



வட்டத்தின் பெறுமதி யாது ?

1) 12

2) 10

3) 20

27. ○ + □ =

1) 10

2) 22

3) 15

28. பனை - வடலி போல,

1) பிள்ளை - தென்னை

2) நெல் - நாற்று

3) பலா - குட்டி

29. குயவன் - மண் போல,

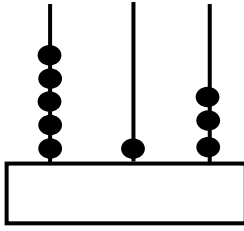
1) சித்திரம் - ஓவியம்

2) சிற்பி - கல்

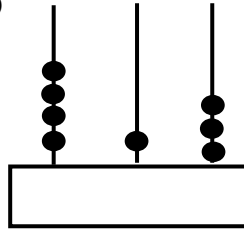
3) உழவன் - குளம்

30. மூன்று பிள்ளைகள் எண் 503 ஐ எண்சட்டங்களில் குறித்துக் காட்டியதை கீழே உள்ள உருக்கள் காட்டுகின்றன. அவற்றில் சரியானது எது ?

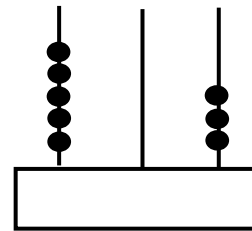
1)




2)



3)




- இரண்டு பழக்கடைகளில் விற்கப்பட்ட தோடம்பழங்களின் விலைகள் பின்வருமாறு தரப்பட்டுள்ளன.



கடை A

ரூ 66.00



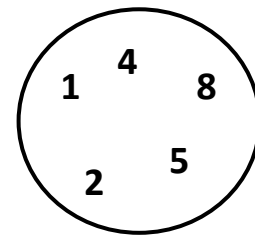
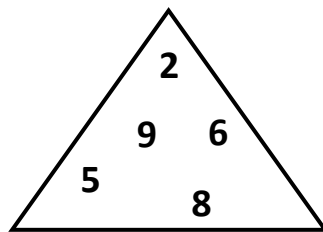
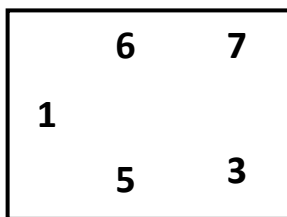
கடை B

ரூ 220.00

31. இவ்விரண்டு கடைகளிலும் விற்பனை செய்யப்படும் தோடம்பழங்களின் விலைகள் தொடர்பான பின்வரும் கூற்றுக்களில் சரியானது எது ?

- ஒரு தோடம்பழத்தின் விலை A கடையிலும் பார்க்க B கடையில் அதிகமாகும்.
- ஒரு தோடம்பழத்தின் விலை B கடையிலும் பார்க்க A கடையில் அதிகமாகும்.
- ஒரு தோடம்பழத்தின் விலை இரண்டு கடைகளிலும் சமமாகும்.

- உருக்களில் உள்ள இலக்கங்களை அவதானியுங்கள்



இதற்கேற்ப கீழுள்ள வினாக்களுக்குரிய விடையின் கீழ்க் கோடிடுக.

32. வட்டத்திற்கு மாத்திரம் உரிய இலக்கம் எது ?

1) 6

2) 2

3) 4

33. நோய் : மருந்து எனின், பசி : ஆகும்.

1) சோறு

2) உணவு

3) பழங்கள்

34. இன்று புதக்கிழமையாகும். இதற்கு முந்தைய புதன் கிழமையிலிருந்து நாளை மறுநாள் வரை எத்தனை நாட்கள் ஆகும். ?

1) 8

2) 9

3) 10

35. கதைப்புத்தகம் ஒன்றிலிருந்து ஒவ்வொரு கதையும் 18 பக்கங்களைக் கொண்டதாகும். புத்தகத்திலிருந்து மூன்றாவது கதை 58 ஆம் பக்கம் முடிவடைகிறது எனின், மூன்றாவது கதை ஆரம்பமாகவு எத்தனையாம் பக்கத்திலாகும் ?

1) 39

2) 40

3) 41

36. ஒரு குறித்த வருடத்தின் மார்ச் மாதத்தின் முதலாம் திகதி செவ்வாய்கிழமையாகும். அம்மாதத்தின் நடுவில் வரும் தினம் எது ?

1) வியாழன்

2) புதன்

3) செவ்வாய்

37. எரிபொருள் நிரப்பு நிலையத்தில் காணக்கூடிய அறிவித்தல் ?

1) பாதணிகளை இங்கே கழற்றவும்

2) புகைத்தல் கூடாது

3) அரசாங்க ஊழியர்களுக்கு மட்டும்

38. நாட்டில் உள்ள மரங்கள் யாவும் வெட்டி அழிக்கப்படுவதால் ஏற்படக்கூடிய பிரதான பாதிப்பு எது ?

1) விடுகள் கட்டம் வேலை நிறுத்தப்படும்.

2) மழை இல்லாமல் வரட்சி ஏற்படும்


3) பறவைகளின் வாழ்விடம் இல்லாமல் போகும்

39. அருகில் நிழற்றப்பட்டுள்ள பகுதி யாது ?

1) $\frac{4}{8}$

2) $\frac{3}{6}$

3) $\frac{6}{8}$



40. சொற்கோலத்தில் இடைவெளிக்கு இரண்டு எழுத்துக்களை எழுதுவதன் மூலம் மூன்று சொற்களை உருவாக்க முடியும். அவ்விரண்டு எழுத்துக்களையும் குறிக்கும் விடையை தெரிவு செய்க.

1) வ, ற

2) க, கு

3) ச, தை

அ	தி
	ழு	
ப	தி

செய்கை வேலைக்கான பகுதி

(01) பின்வரும் பந்தியை நன்றாக வாசிக்குக

உழவர்கள் மாரிகாலத்தில் வேலையை ஆரம்பிப்பார்கள். சிலர் கலப்பையில் மாடுகளை பூட்டி வயலை உழவார்கள். சில இடங்களில் உழவு இயந்திரத்தால் வயல் உழவார்கள். நீரைத் தேக்கி வைப்பதற்காக வரம்புகளை கட்டுவார்கள். பின்னர் நீரை வடிந்தோட விட்டு நெல்லை விதைப்பார்கள். சில இடங்களில் பதியம் இட்டிருந்த நாற்றுக்களைப் பிடுங்கி நாற்று நடுவார்கள்.

- வினாக்களுக்குரிய விடைகளை பந்தியிலிருந்து தெரிந்தெடுத்துப் புள்ளிக்கோட்டில் எழுதுக

1. நீரைத்தேக்கி வைப்பதற்காக வயலில் கட்டப்படுவன எவை?

.....

2. உழவர்கள் எப்போது வேலையை ஆரம்பிப்பார்கள்?

.....

3. நெல்லின் இளமை பெயரை பந்தியிலிருந்து தெரிந்தெடுத்து எழுதுக?

.....

4. கழனி என்பதன் ஒத்தகருத்துச் சொல்லை எழுதுக?

.....

5. கோடை என்பதன் எதிர் கருத்துச் சொல்லை எழுதுக?

.....

6. பந்தியில் முதல் வாக்கியத்தில் இடம்பெறும் சொற்களில் சங்கிலிக்கொம்பு உடைய எழுத்தைக் கொண்ட சொல்லை தெரிவு செய்து எழுதுக?

.....

(02) தரப்பட்டுள்ள தொடர்களுக்கரிய தனிச் சொல்லை அடைப்பினுள்ளிருந்து தெரிவு செய்து அதன் கீழ் கோடிடுக.

1. யாவருக்கும் இல்லையென்னாது வாரி வழங்குபவன் (உலோபி/வள்ளல்)

2. கப்பலோட்டுபவன் (விமானி / மாலுமி)

3. வாசிப்பதற்கென புத்தகங்கள் அடுக்கி வைக்கப்பட்டிருக்கும் இடம் (நூலகம் / நூலகம்)

4. செய்திகளை திரட்டித் தருபவர் (நிருபர் / நிறுபர்)

5. தினமும் வெளிவரும் செய்தித்தாள் (வாரஇதழ் / நாளிதழ்)

(03) எதிர்கருத்துச் சொற்களைத் தெரிவு செய்து அதன் கீழ் கோடிடுக

1) இளமை - (புதுமை, முதுமை, வறுமை)

2) வானம் - (ஆகாயம், விதானம், பூமி)

3) ஒற்றுமை - (நட்பு, பலம், வேற்றுமை)

(04) வெற்றிடத்துக்குப் பொருத்தமான சொல்லை அடைப்புக்குள் இருந்து தெரிவு செய்து அதன் கீழே கோடிடுக.

- 1) நாம் இருபத்தோராம் வாழ்கிறோம். (நூட்ராண்டில் / நூற்றாண்டில்)
- 2) பண்டைக் காலம் தொட்டே மக்கள்த் தொழிலைச் செய்து வருகின்றனர். (உழவு / உலவு)
- 3) தாய்ப்பறவை, கூட்டிற்கு திரும்பியது. (இறையுடன் / இரையுடன்)
- 4)ப் போட்டிகள் ஆரம்பமாகின. (விழையாட்டு / விளையாட்டு)
- 5) பல்லி, பூச்சியை பிடிப்பதற்கு செய்தது. (முயற்சி / முயற்ச்சி)

(05) பொருத்தமான நிறுத்தற் குறிகளை இடுக.

1. சந்தை பூங்கா என்பன பொதுச் சொத்துக்களாகும்
2. குழந்தாய் நீ யார்
3. உங்களுக்கு வெற்றி உண்டாகுக

(06) பின்வரும் தொடர்களுக்குரிய தனிச் சொல்லை எழுதுக.

1. நான்கு புறமும் கடலால் சூழப்பட்ட பகுதி
2. விமானம் செலுத்துபவன்
3. படங்களை வரைபவன்
4. குழந்தைகளை உறங்கவைப்பதற்கு பாடும் பாட்டு

(07) பின்வரும் வாக்கியங்களில் **தடித்த** எழுத்தில் தரப்பட்டுள்ள சொல்லுக்குரிய ஓத்த கருத்துச் சொற்கள் இரண்டை எழுதுக.


1. **பறவைகள்** கானம் இசைத்தன.,
2. பூக்கள் தோட்டத்தை **அழகு** செய்தன.,

(08) பின்வரும் பழமொழிகளில் உள்ள வெற்றிடங்களை நிரப்புக.

1. கடுகு சிறிதானாலும் பெரிது.
2. காற்றுள்ள போதே க் கொள்.
3. தொட்டில் சுடுகாடு மட்டும்.
4. ஏட்டுச் கறிக்க உதவாது.

(09) பின்வரும் ஒவ்வொருபடத்திற்கும் உரிய ஆங்கிலச் சொல்லினை ஆங்கில எழுத்துகளில் எழுதுக.

1.



2.



.....

.....

(10) ஆங்கில வாக்கியங்களின் கருத்தினை தமிழில் எழுதுக.

1. Please Sit down

2. I am thirsty

(11) சிங்கள சொற்களின் கருத்தைத் தமிழில் எழுதுக.

1. அம்(B) ப (G) கச

2. வாடிவென்ன

(12) வானொலி என்ற தலைப்பில் மூன்று வாக்கியங்கள் எழுதுக. (ஒவ்வொரு வாக்கியத்திலும் ஐந்து சொற்களுக்கு குறையாமல் எழுவாய் பயனிலைத் தொடர்புடன் எழுதுக. (எழுத்துப் பிழைகள் இருப்பின் புள்ளி வழங்கப்படமாட்டாது)

1.

2.

3.

(13) பின்வரும் கணித வினாக்களுக்குரிய விடையை எழுதுக.

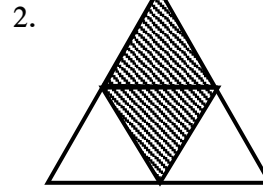
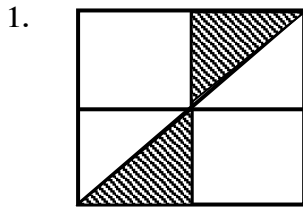
1. புகையிரதம் ஒன்றில் 1245 பிரயாணிகள் பயணம் செய்தனர். ஒரு புகையிரத நிலையத்தில் 176 பயணிகள் இறங்க 239 பயணிகள் புகையிரதத்தில் ஏறினர். இப்போது புகையிரதத்தில் பயணம் செய்வோர் எத்தனை பேர்?

2. பாத்திரமொன்றில் 6l 650ml நீர் இருந்தது. இன்னுமொரு பாத்திரத்தில் அதன் இருமடங்கு நீர் இருந்தது. இருபாத்திரங்களிலும் உள்ள நீரின் மொத்த அளவு யாது?

3. ஒரு நோயாளிக்கு ஒரு தடைவ 2 வீதம் ஒரு நாளைக்கு 3 தடவைகள் எடுப்பதற்கென 6 நாட்களுக்கு போதுமான மாத்திரைகள் வழங்கப்பட்டன. நோயாளிக்கு வழங்கப்பட்ட மாத்திரைகளின் எண்ணிக்கை யாது?

4. தரப்பட்டுள்ள வெற்றிடத்தில் விடையை எழுதுக.

ஒவ்வொரு உருவிலும் நிறந்தீட்டப்பட்டுள்ள பகுதி முழு உருவின் என்ன பின்னம் என எழுதுக.



5.

i) 10 பந்துகளில் $\frac{1}{5}$ எத்தனை பந்துகள்?

ii) 12 பென்சில்களில் $\frac{1}{4}$ எத்தனை பென்சில்கள்?

6.

i) 5kg சீனியை 500g கொண்ட எத்தனை பைக்கற்றுக்களில் இடலாம்?

ii) 1 kg 500g மிளகாயை 250g கொண்ட எத்தனை பைக்கற்றுக்களில் இடலாம்?
.....

7.

i) ஒன்று ரூபாய் 25.00 வீதம் 4 மாம்பழங்களை வாங்க எவ்வளவு தேவை?

ii) ஒரு வாழைப்பழத்தின் விலை ரூ 6.00 ஆகும் ரூ 42.00 இற்கு எத்தனை வாழைப்பழங்கள் வாங்கலாம்?

8.

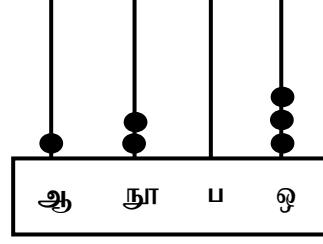


கடிகாரம் காட்டும் நேரம் ?

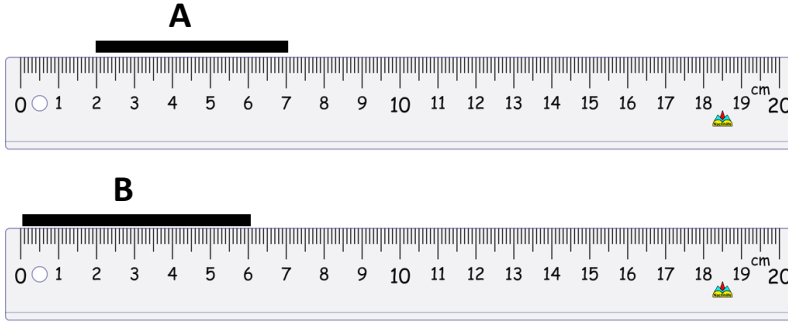
.....

9. எண்சட்டம் குறிக்கும் எண்ணை புள்ளிக்கோட்டில் எழுதுக.

.....

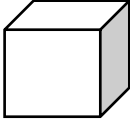


10.



மேலே படத்தில் காட்டப்பட்டுள்ள A,B ஆகிய இரண்டு தடிகளின் மொத்த நீளம் எவ்வளவு ? cm

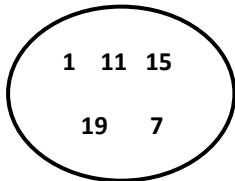
11.



அருகேயுள்ள படம் தாயக்கட்டையின் தோற்றமாகும் இதன் பக்கங்களின் வடிவம் யாது ?

.....


12.



வட்டத்தில் காட்டப்பட்டுள்ள இலக்கங்கள் 05 யும் கொண்டு பொது வித்தியாசம் 4 ஆகவுள்ள எண்கோலத்தை எழுதுக?

.....,,,

13.



இப்பாத்திரத்திலுள்ள நீரின் கனவளவு 8 லீற்றர் 650 மில்லிலீற்றர் ஆகும் அதிலிருந்து 3 லீற்றர் 350 மில்லிலீற்றர் நீர் வெளியேற்றப்பட்டது எஞ்சிய நீரின் கனவளவு யாது ?

.....

14. 315 சவர்கார கட்டிகள் மூன்று பெட்டிகளில் சமமாக அடுக்கி வைக்கப்பட்டன ஒரு பெட்டியில் எத்தனை சவர்கார கட்டிகள் உள்ளன?

15. 416 தோடைகள் நான்கு கடைகளுக்கு சமமான எண்ணிக்கையில் பங்கிடப்பட்டன. எனின் ஒரு கடைக்கு கொடுக்கப்படும் தோடைகள்?

(14) பொருத்தமான விடையைத் தரப்பட்டுள்ள விடைகளிலிருந்து தெரிந்தெடுத்து, அதன் கீழ்க் கோடுக.

1) பின்வரும் தாவரங்களில் நீண்டு வளருகின்ற தாவரம் எது?

1. கத்திரி 2. தக்காளி 3. கித்துள் 4. பப்பாசி

2) நீரில் கரையாத பொருள்

1. உப்பு 2. சீனி 3. மெழுகு 4. மை

3) நுளம்பின் மூலம் பரவும் நோய் அல்லாதது

1. டெங்கு 2. மலேரியா 3. வாந்திபேதி 3. யானைக்கால்

4) வடமாகாணத்தை சேர்ந்த ஒரு மாவட்டம்

1. வவுனியா 2. மாத்தறை 3. கண்டி 4. திருகோணமலை

5) கறையான் அமைத்த புற்றை தனது வீடாகப் பயன்படுத்துவது

1. எலி 2. கறையான் 4. பாம்பு 5. முயல்

6) சீவுளி எனும் ஆயுதத்தை பயன்னடுத்துபவர்.

1. மேசன் 2. தச்சன் 3. கொல்லன் 4. சிகை அலங்கரிப்போர்

7) _____ ருவில் உள்ள பறவை எது?



1. கொக்கு
2. நாரை
3. புளுனி
4. நீர்க்காகம்

8) பொருட்களுக்களுக்கு சர்வதேச ரீதியில் வழங்கப்படும் தரச்சான்றிதழின் குறியீடு

1. SLS 2. ISBN 3. ISO 4. PHI

9) கொள்ளை நோயை பரப்புவது,

1. பன்றி 2. மணி இலையான் 3. எலி 4. வீட்டு ஈ

10) பின்வரும் உருவப்படங்களுள் இலங்கையின் தேசிய பறவை எது?

1.



2.



3.



4.



11) உப்பு இடுவதன் மூலம் பேணிப் பாதுகாக்கப்படும் ஒரு உணவு?

1. பாகற்காய்

2. தேசிக்காய்

3. விளிம்பிக்காய்

4. மாங்காய்

12) கீழே தரப்பட்டுள்ள பொருட்களினுள்ளே தனிப்பட்ட நபர் பயன்னடுத்தும் பொருள் அல்லாதது எது?

1. சீப்பு

2. சவர்காரம்

3. பற்தூரிகை (பிறஸ்) 4. குடை

13) மூன்று மாதங்களுடைய ஒரு குழந்தைக்கு மிக உகந்த ஒரு ஆகாரம்

1. சோறு

2. தாய்ப்பால்

3. இறைச்சி

4. முட்டை

14)



அருகில் தரப்பட்டுள்ள பிராணி எதிரிகளிடமிருந்து தப்பித்துக் கொள்ள கையாளும் உத்தி எது?

1. சுருண்டு கொள்ளும்

2. தனது உடலை ஓட்டினுள் மறைத்துக் கொள்ளும்

3. கொடுக்கால் எதிரிகளை தாக்கும்

4. வாலை உடைத்து விட்டுத் தப்பி ஓடிவிடும்

15) பின்வரும் வர்ணங்களில் அடிப்படை வர்ணம் அல்லாதது எது?

1. பச்சை

2. நீலம்

3. சிவப்பு

4. மஞ்சள்

16) அருகில் தரப்பட்டுள்ள விளையாட்டை விளையாடுவதற்கு அணியில் பங்கு பங்கு கொள்ளும் வீரர்களின் எண்ணிக்கை?

1. 10 பேர்

2. 11 பேர்

3. 16 பேர்

4. 6 பேர்



17) உலக சிறுவர் தினம் எப்போது கொண்டாடப்படுகிறது

1. ஒக்டோபர் 2 ம் திகதி

2. ஒக்டோபர் 3 ம் திகதி

3. ஒக்டோபர் 1 ம் திகதி

4. ஒக்டோபர் 5 ம் திகதி

18) தாவரத்திற்கு பூவிலிருந்து கிடைக்கும் பயன்,

1. நறுமணம் வீசுதல்

2. தாவரத்தின் ஆயுளை கூட்டுதல்

3. அழகூட்டல்

4. அதன் இனத்தை பரப்ப உதவுதல்

19) நான்கு இதழ்கள் உள்ள மலருக்கு உதாரணம்,

1. பவளமல்லிகை

2. வெட்சி

3. மல்லிகை

4. காட்டு மல்லிகை

20) கத்தியை தீட்ட பயன்படுத்தும் உபகரணம்

1. குறடு 2. சுத்தியல் 3. அரம் 4. இடுக்கி

21) அசுத்த நீரைப் பருகுவதால் பீடிக்கும் நோய்

1. கூகைகட்டு 2. செங்கண்மாரி 3. டெங்கு 4. தடிமன்

22) பின்வருவனவற்றில் நீரில் கரைவது,

1. மெழுகு 2. மண்ணெண்ணெய் 3. தேங்காய் எண்ணெய் 4. சீனி

23) நீலம், சிவப்பு ஆகிய நிறங்களை கலப்பதால் பெறப்படும் நிறம்,

1. ஊதா 2. பச்சை 3. கபிலம் 4. மஞ்சள்

24) தேசிய கீதம் பாடிமுடிந்தவுடன் நாம் செய்ய வேண்டியது

1. கைகளை உயர்த்துதல்
2. வேகமாக துள்ளி ஓடுதல்
3. தலையை தாழ்த்தி மரியாதை செய்தல்
4. நின்ற இடத்தில் நின்று துள்ளுதல்

25) தண்டில் உணவு சேமிக்கம் தாவரம்

1. கரும்பு 2. மா 3. பலா 4. தக்காளி

26) குற்றவாளிகளை தேடிப்பிடிப்பதற்காக வளர்க்கப்படும் ஒரு பிராணி

1. குதிரை 2. புலி 3. சிங்கம் 4. நாய்


27) பூனையைப்போல் கத்தும் நாயைப்போல் உறுமும் மரத்தின் மேல் கூடுகட்டாத பறவை

1. கிளி 2. கிவி 3. தீக்கோழி 4. வான்கோழி

28) தேசப்படத்தில் காடுகளை குறிக்கப்பயன்படும் நியமநிறம்

1. நீலம் 2. கறுப்பு 3. கபிலம் 4. பச்சை

29)



இவ் வழிபாட்டிற்குரிய மதத்தவர்

1. இஸ்லாமியர்
2. இந்துக்கள்
3. பௌத்தர்
4. கிறிஸ்தவர்

30) மேசன் வேலை செய்வோர் பயன்படுத்தும் உபகரணமாக அமைவது

1.  2.  3.  4. 