

புலமை அறிவு



தரம்



2020 புலமைப்பரிசில் பரீட்சை எழுதும்
மாணவர்களுக்கான முன்னோடிப் பரீட்சை 01

ஆசிரியர்

திரு. ந. மனோகரன் BA, Dip in Teach , SLTS II

(புலமை அறிவு வினாத்தாள் ஆசிரியர் -

(புலமைச் சுடர், மலைமுரசு, ஒளி அரசு புலமைப் பரிசில்,
கிழக்கு மாகாணம் - வினாத்தாள் ஆசிரியர்)

தி/ஸ்ரீ சண்முக கிந்து மகளிர் கல்லூரி (தேசிய பாடசாலை)

**MISTAKES
ARE PROOF THAT
YOU ARE
TRYING**

மாணவர் பெயர்

.....

புள்ளித்திட்டம்

பகுதி I

பகுதி II

மொத்தம்


- 01ஆம் 02 ஆம் வினாக்களில் சோடிச் சொற்களுக்குப் பொருத்தமான உருவைத் தெரிவு செய்க.

01. ஒலி ---- நீண்ட தூரம் ---- செவிப்புல சாதனம்

1)



2)



3)



02. தலை ---- பாதுகாப்பு ---- கிரிக்கெட்

1)



2)




3)




- 03ஆம் 04ஆம் வினாக்களில் நெருங்கிய தொடர்புடைய உருச்சோடியைத் தெரிவு செய்க.

03.

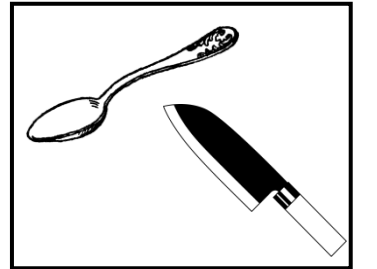
1)



2)




3)




04.


1)



2)



3)



12. நவம்பர் மாதத்தின் 01ஆம் திகதி வியாழக்கிழமை எனின், அம்மாதத்தின் 30ஆம் திகதி என்ன கிழமை ?

1) புதன்

2) வியாழன்

3) வெள்ளி

- ஒரு கடையில் உள்ள பழங்கள் பற்றிய விபரம் வட்ட வரைபில் காட்டப்பட்டுள்ளது. இதனை வைத்து வினாக்களுக்கு விடை தருக.

இங்குள்ள மாம்பழங்களின் எண்ணிக்கை 35 எனின்,

13. இங்குள்ள அன்னாசிப் பழங்கள் எத்தனை ?

1) 100

2) 105

3) 110

14. இங்குள்ள மொத்தப் பழங்கள் எத்தனை ?

1) 200

2) 225

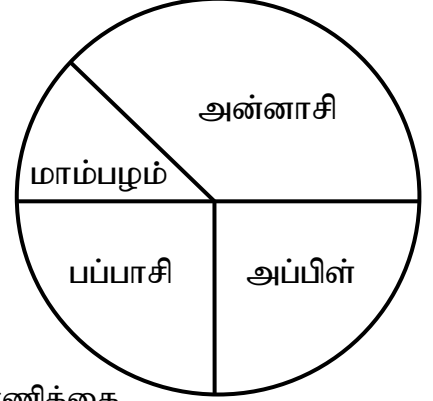
3) 280

15. அன்னாசிப்பழத்தினதும், மாம்பழத்தினதும் மொத்த எண்ணிக்கை


1) 120

2) 130

3) 140



- கீழுள்ள படங்கள் உள்ள அட்டவணையைப் பார்த்து 15ஆம், 16ஆம் வினாக்களுக்கு விடையளிக்குக.



A

B

C

D

E

16. கிளியின் உணவுகளைக் குறிக்கும் இரு படங்கள்

1) Aயும் Eயும்

2) Aயும் Cயும்

3) Dயும் Aயும்

17. கொக்கு உண்ணும் உணவையும் சிங்கம் உண்ணாத உணவையும் முறையே காட்டுவது

1) Dயும் Bயும்

2) Dயும் Eயும்

3) Dயும் Aயும்

- தரப்பட்டுள்ள கவிதையைக் கொண்டு விடை எழுதுக.

ஒழுக்கம் உயிரிலும் மேலாக - உயர்த்தி வாழ முனையுங்கள்

அழுக்குப் பாதை நீங்கிடவே - அலைந்து அறிவைத் தேடுங்கள்

பெற்றோர் சொல்லைப் பேணுங்கள் - பெரியோர் கூற்றை மதியுங்கள்

கற்றோர் வழியைத் தொடர்ந்திடவே - கனிவாய் சிந்தை செய்யுங்கள்

18. கவிதையில் உயிரிலும் மேலாக மதிக்கப்படுவது,

1) கல்வி

2) ஒழுக்கம்

3) அறிவு

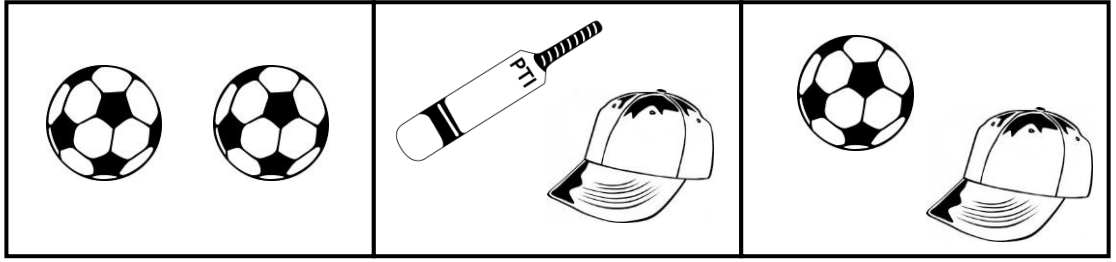
19. யாருடைய வழியைப் பின்பற்ற வேண்டும் எனக் கூறப்படுகிறது

1) பெற்றோர் வழியை

2) பெரியோர் வழியை

3) கற்றோர் வழியை

- உருவில் தரப்பட்ட விலைகளுக்கேற்ப விடையைத் தெரிக.



ரூ 96.00

ரூ 210.00

ரூ 93.00

28. பந்து ஒன்றின் விலை யாது ?

- 1) ரூ 50.00 2) ரூ 48.00 3) ரூ 45.00

29. துடுப்பொன்றின் விலை யாது ?

- 1) ரூ 155.00 2) ரூ 165.00 3) ரூ 145.00

30. மூன்று பந்துகளையும் இரண்டு தொப்பிகளையும் வாங்கும் ஒருவர் வியாபாரிக்கு ரூ 500.00 கொடுத்தால் அவருக்கு கிடைக்கும் மிகுதிப்பணம்

- 1) ரூ 300.00 2) ரூ 266.00 3) ரூ 320.00


31. “தலை மறைதல்” என்பது,

- 1) தெரிதல் 2) தோன்றுதல் 3) ஒளிந்திருத்தல்

32. “பூசி மெழுகுதல்” என்பது,

- 1) கற்பனை செய்தல் 2) குற்றத்தை மறைத்தல் 3) சிறந்த வழி

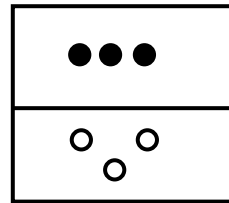
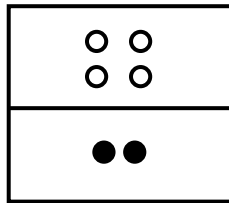
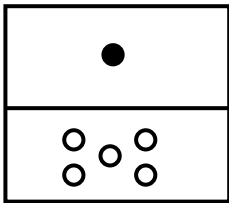
33.




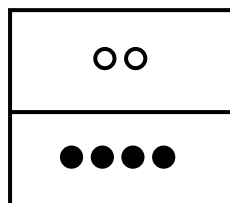

இவ்வுருவில் காணப்படுகின்ற மேற்றளங்களின் எண்ணிக்கை யாது ?

- 1) 3
2) 5
3) 6

34.



.....

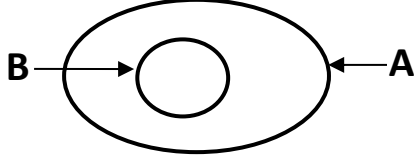


1)

2)

3)

35.



A என்பது பழங்களைக் குறிக்குமாயின் B குறிப்பது

- 1) மரக்கறி
- 2) அப்பிள்பழம்
- 3) தாவரம்

- பழமொழிக்குப் பொருத்தமான கருத்தைத் தரும் விடையைத் தெரிவு செய்க.

36. “அடம்பன் கொடியும் திரண்டால் மிடுக்கு” என்பதன் பொருள் யாது ?

- 1) சிறு துளிகள் சேர்ந்துபெரு வெள்ளமாகின்றது.
- 2) சிறுகச் சிறுகச் சேமித்தால் அது பெரு செல்வமாகின்றது
- 3) ஒற்றுமையே பலம்

37. “ஆறின கஞ்சி பழங்கஞ்சி” என்பதன் பொருள் யாது ?

- 1) ஒரு செயலை நீண்ட நாளைக்குப் பிறகு செய்தல்
- 2) ஒரு பயனை பெற முயலுதல்
- 3) எதையும் உரிய வேளையில் செய்யாவிட்டால் அதனால் ஏற்படும் பயன் குறையும்

- கீழ்வரும் தகவல்களை அடிப்படையாகக் கொண்டு வினாவுக்கு விடை தருக.

$$\text{அன்வர்} + \text{அமீர்} = 90\text{kg}$$


$$\text{அமீர்} + \text{சுரேஸ்} = 85\text{kg}$$

$$\text{சுரேஸ்} + \text{அன்வர்} = 75\text{kg} \text{ இதற்கேற்ப,}$$

38. சுரேஸின் நிறை யாது ?

- 1) 50kg
- 2) 40kg
- 3) 35kg

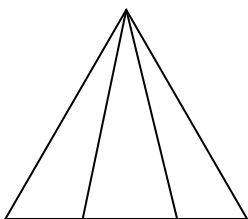
39.



உருவில் உள்ள சதுரங்கள் எத்தனை

- 1) 06
- 2) 07
- 3) 08

40.



உருவில் உள்ள முக்கோணிகள் எத்தனை

1. 03
2. 05
3. 06

செய்கை வேலைக்கான பகுதி

பகுதி II

• பின்வரும் பந்தியை வாசித்து விடை தருக.

நிலத்தில் பயிரிடுவதற்காக எடுத்துகொண்டு உழுகின்றேன். ஏன் மாமா! நிலத்தை உழுதல் வேண்டும் ? அதுவா? “சீரைத்தேடின ஏரைத்தேடு” என்பார்களே! பயிரிடுவதற்கு முன் மண்ணை ஆழமாகப் பண்படுத்த வேண்டும். ஆதனால்தான் “அகல உழுவதைவிட ஆழ உழுவதே நன்று” என்பார்கள். இதன் மூலம் நிலத்தைப் பண்படுத்தி பயிர்களின் விளைச்சலையும் அதிகரிக்க முடியும். இதை நீங்கள் அறிந்ததில்லையா ?

1. விளைச்சலை அதிகரிக்க யாது செய்ய வேண்டும்?
2. வயலை உழுவதற்கு பயன்படுத்தும் பிராணி எது?
3. அகல உழுவதை விட எது சிறந்தது?
4. முன்னிலைப் பன்மைப் பெயர்ச் சொல்?
5. விசிறியும் சுழியும் பொண்ட சொல்?
6. பந்தியில் வந்துள்ள பழமொழியை எழுதுக?

02. பின்வரும் வினாக்களுக்கான விடைகளைப் புள்ளிக் கோட்டின் மீது எழுதுக.

- 1) ‘விழுந்தன’ என்பதன் நிகழ்காலச் சொல் என்பதாகும்.
- 2) ‘சேவல் காலையில் கூவும்’ இவ்வாக்கியத்தின் பயனிலை என்பதாகும்.
- 3) நூல் + அகம் என்பதைச் சேர்த்து எழுதினால் ஆகும்.
- 4) இடையன் என்பதன் எதிர்ப்பாற் சொல் என்பதாகும்.
- 5) வாழைக்கு இலை போல , பனைக்கு ஆகும்.

03. பின்வரும் சொற்களை ஒழுங்குபடுத்தி வாக்கியம் ஆக்குக.

- 1) வேண்டும் / பந்தியாக / ஒவ்வொரு / வாசிக்க / நாங்கள்
.....
- 2) காலத்தில் / ஆரம்பிப்பார்கள் / உழவர்கள் / வேலையை / மாரி
.....

04. வெற்றிடத்திற்குப் பொருத்தமான விடையை அடைப்பினுள்ளிருந்து தெரிவு செய்து, அதன் கீழ்க் கோடிடுக.

- 1) நாம் நூற்றாண்டில் வாழ்கிறோம்.
(பத்தொன்பதாம், இருபதாம், இருபத்தோராம்)
- 2) “இன்ரநெட்” என்பதன் தமிழ்ப்பதம் என்பதாகும்.
(கணினி, மின்னஞ்சல், இணையம்)
- 3) இலங்கையில் யானைகள் சரணாலயம் காணப்படும் இடம் ஆகும்.
(குமுண, பின்னவெல, சீகிரியா)

05. கீழே தரப்படும் வாக்கியங்களுக்குப் பொருத்தமான சொல்லை அடைப்பில் இருந்து தெரிவு செய்து அதன் கீழ்க் கோடிடுக.

- 1) கல்குவியல் போல கீரைக்கு (கட்டு, சீப்பு)
- 2) பலாவுக்கு சுளை போல மாம்பழத்திற்கு (பருப்பு, சதை)
- 3) குஞ்சுகள் இரையை (உண்டது, உண்டன)
- 4) அவரது பேச்சு எமக்கு உற்சாகத்தை (தந்தன, தந்தது)
- 5) அதிபரும் பெரியவரும் மேடையில் (அமர்ந்தனர், அமர்ந்தார்)

06. கீழே தரப்பட்டுள்ள மரபுத் தொடர்களுக்குப் பொருத்தமான சொல்லை அடைப்புக்குள்ளிருந்து தெரிவு செய்து அதன் கீழ் கோடிடுக.

- 1) கண் வளர்தல் எனும் மரபுத் தொடரின் கருத்து
(அறிவு உண்டாதல், நித்திரை செய்தல்)
- 2) கண் திறத்தல் எனும் மரபுத் தொடரின் கருத்து
(நித்திரையிலிருந்து எழும்புதல், அறிவு உண்டாதல்)

07. வெற்றிடத்திற்குப் பொருத்தமான சொல்லை அடைப்புக்குள்ளிருந்து தெரிந்து அதன் கீழ்க் கோடிடுக.

- 1) அண்ணன் தம்பியுடன் விளையாட்டு பார்த்த குதூகலத்துடன் வீடு
(திரும்பினார்கள், திரும்பினான்)
- 2) காட்டில் சீதையை இழந்த இராமனும் இலக்குமணனும் திக்குத் தெரியாமல்
(தவித்தான், தவிர்த்தனர்)
- 3) மிகத் தொலைவில் காட்டு நாய்கள் குரைக்கும் சத்தம்
(கேட்டது, கேட்டன)
- 4) மாலை வேளை எல்லப் பறவைகளும் கூட்டை நோக்கிச்
(சென்றது, செல்லும்)

08. படத்துக்குரிய ஆங்கிலப் பெயரை ஆங்கிலத்திலேயே எழுதுக.



09. கருத்தைத் தமிழில் எழுதுக.

1) Silence please :

2) I am hungry :

10. பின்வரும் சிங்கள வாக்கியங்களின் கருத்தைத் தமிழில் எழுதுக.

1) அபே பந்தி :

2) அத்துலட்ட என்ன :

11. “வாசிப்பு மனிதனை பூரணமாக்குகின்றது” வாசிப்பின் பயன் பற்றி சரியான எழுவாய் பயனிலை புலப்படும் வகையில் மூன்று வாக்கியம் எழுதுக. ஒவ்வொரு வாக்கியமும் ஐந்து சொற்களுக்குக் குறையாதவாறு அமைதல் வேண்டும்.

1.

.....

2.

.....

3.

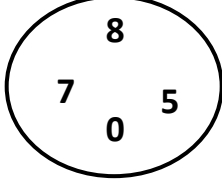
.....

01. பின்வரும் வினாக்களுக்குத் தரப்பட்டுள்ள இடைவெளிகளில் விடை எழுதுக.

1) தரப்பட்டுள்ள எண்ணை எழுத்தில் எழுதுக.

4009

2)



வட்டத்தில் உள்ள எண்களைப் பயன்படுத்தி அமைக்கக்கூடிய மிகப்பெரிய எண்ணை எழுதுக.

.....

3) தரப்பட்டுள்ள உரோம எண்ணுக்கு அடுத்ததாக வரும் உரோம எண்ணை எழுதுக.

XV,

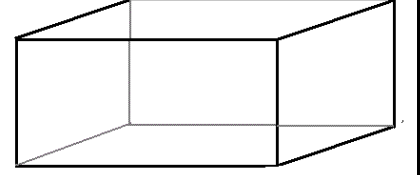
4)

(i) படத்தில் தரப்பட்டுள்ள திண்மப் பொருளைப் பெயரிடுக.

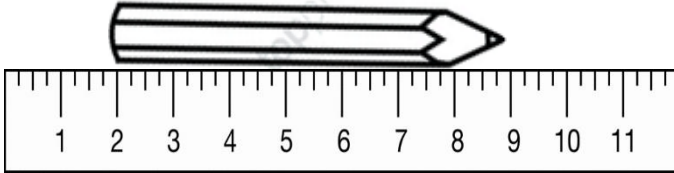
.....

(ii) அத்திண்மப் பொருளில் எத்தனை விளிம்புகள் உள்ளன ?

.....



5)



பென்சிலின் நீளம் யாது?

.....

6)

	Kg	g
	29	870
+	05	330
<hr/>		
<hr/>		

7) தாங்கி ஒன்றில் இருந்து 3500ml நீர் வெளியேறியது பின் அதில் 2000ml நீர் எஞ்சியிருந்தது எனின், ஆரம்பத்தில் இருந்த நீரின் அளவு யாது ?

.....

8) அருகில் உள்ள பூச்சாடியில் காணப்படும் பூக்களின் எண்ணிக்கையை உரோம எண்குறியில் எழுதுக.



9) இவ் எண்கோலத்தில் அடுத்துவரும் எண்ணை எழுதுக.

40, 32, 24, 16,


10) கீழே தரப்பட்டுள்ள எண்கோலங்களின் ஒழுங்கு முறைக்கு ஏற்ப இரண்டு எண்களுக்கு இடையேயுள்ள பொது வித்தியாசம் எத்தனை ஆகும் ?

2, 8, 14, 20,

11) குழி ஒன்றில் 5 பாகற்காய் விதைகள் வீதம் 736 விதைகளை நடுவதற்கு எத்தனை குழிகள் தேவை ?

12) 9082 இவ் எண்ணை விரித்து எழுதுக.

13)



பி.ப 04.30 மணியை அருகில் உள்ள கடிகார முகத்தில் வரைந்து காட்டுக.

14) சிவாவின் உயரம் 185cm ஆகும். கலாவின் உயரம் 180cm ஆகும் இருவரினதும் உயரங்களினதும் கூட்டுத்தொகையை மீற்றர் சென்றிமீற்றரில் தருக.

15) லீற்றர், மில்லிலீற்றரில் தருக. $7850 =$

• சரியான விடையின் கீழ்க் கோடிடுக.

1. மிக வேகமாக ஓடக்கூடிய பறவை பின்வருவனவற்றுள் எது ?

1)




2)



3)



4)



2. கிறிஸ்தவ சமயத்தவர்கள் நத்தார் தின விழாவைக் கொண்டாடுவது ?

1) ஜூலை மாதம்

2) ஆகஸ்ட் மாதம்

3) ஜனவரி மாதம்

4) டிசம்பர் மாதம்

3. காடுகளை அண்டியுள்ள இடங்களில் நடமாடுவதால் ஏற்படும் விபத்து எது ?

1) சறுக்கி விழுதல்

2) பாம்பு தீண்டுதல்

3) நீரில் மூழ்கி இறத்தல்

4) கை, கால் முறிதல்

4. “அன்னாசிப் பிஞ்சை” உண்பதால் ஏற்படும் விளைவு ?

1) உதடுகள் வீங்குதல்

2) வயிற்று வலி

3) உடலில் தடிப்புக்கள் தோன்றல்

4) வாந்திபேதி ஏற்படல்

5. “இலவசக் கல்வியின் தந்தை” எனப் போற்றப்படுபவர் யார் ?

1) திரு. டி. எஸ். சேனநாயக்க

2) திரு. ஆதர். சீ கிளாக்

3) திரு. சீ. டபிள்யூ. டபிள்யூ கன்னங்கரா

4) திரு. டி. பி. ஜயதிலக

6. எமது நாட்டிலுள்ள மிக உயரமான நீர்வீழ்ச்சி எது ?

1) துன்ஹிந்த

2) தியலும

3) லக்சபான

4) பம்பரகந்த

7. கிரிக்கட் விளையாட்டு வீரர், கல் உடைப்பவர், மோட்டார் வண்டியில் செல்பவர் ஆகியோர் பயன்படுத்த வேண்டிய முக்கிய உபகரணம்

1) கையுறை


2) தலைக்கவசம்

3) சப்பாத்து


4) தொப்பி

8. பின்வரும் உயிரினங்களில் பாலைவனக் கப்பல் என அழைக்கப்படுவது

1)



2)



3)



4)





9. பின்வரும் பொருட்களிடையே நீரில் கரையாத பொருள் எது ?

1) உப்பு

2) சீனி

3) மெழுகு

4) குளுக்கோசு

10. நாம் பாதையைக் கடக்கும் போது முதலில் கவனிக்க வேண்டியது ?
 1) இடது பக்கம் 2) வலது பக்கம் 3) முன் பக்கம் 4) பின்பக்கம்
11. தன்னில் ஏதாவது ஒரு அசைவு ஏற்படும் போது தனது இலைகளை மடக்கிக் கொள்ளும் தாவரம் ?
 1) சூரியகாந்தி 2) அவரை 3) அகத்தி 4) தொட்டாற்சிணுங்கி
12. வீட்டு ஈக்கள் உணவின் மீது மொய்ப்பதனால் ஏற்படும் நோய் எது ?
 1) டெங்கு 2) மலேரியா 3) வாந்திபேதி 4) கண்டமாலை
13. சமைத்த மட்பாண்டங்களை சுத்தம் செய்ய சிறந்த பொருள்
 1) அடுப்புச்சாம்பல் 2) பழப்புளி 3) செங்கந்தூள் 4) தேயிலைத்தூள்
14. கீழே தரப்படும் முதலுதவிக்குரிய விபத்து எது ?
 “நோயாளிக்கு உண்ணவோ குடிக்கவோ கொடுக்கக்கூடாது. நன்கு சுவாசிக்கும் சூழலை ஏற்படுத்தல்”
 1) நீரில் மூழ்குதல் 2) மின்சாரம் தாக்குதல்
 3) மயக்கம் ஏற்படல் 4) நாய்கடித்தல்
15.  அருகில் தரப்பட்டுள்ள குறியீடானது விஞ்ஞான ஆய்வுகூடத்தில் காணப்பட்டது. இக் குறியீட்டின் மூலம் விளக்கப்படுவது
 1) விரைவில் தீப்பற்றும்
 2) அபாயம்
 3) எலும்புக்கூடுகள் நிறைந்துள்ளது
 4) வெடிக்கக் கூடியது
16.  அருகில் தரப்பட்டுள்ள அரச இலச்சினையில் நெற்கதிர்கள் குறித்து நிற்பது
 1) தன்னிறைவு
 2) சௌபாக்கியம்
 3) தார்மீகம்
 4) நிலைத்திருப்பு
17. இந்து சமயத்தவர்களுக்குரிய விழாக்கள் அடங்கிய தொகுதி எது ?
 1) நமழான், ஹஜ்பெருநாள், நபியவர்கள் பிறந்ததினம்
 2) தைப்பொங்கல், தீபாவளி, சித்திரைப்புதுவருடப் பிறப்பு
 3) வெசாக் பொசன், சித்திரை, புதுவருடப்பிறப்பு
 4) நத்தார், பெரிய வெள்ளி, ஈஸ்டர் பெருநாள்
18. சிறிய நிறக் கடதாசிகளை துண்டு துண்டாகக் கிழித்து உருவம் ஒன்றின் மீது ஒட்டுவதை எவ்வாறு அழைப்பர்.
 1) முத்திரை ஒட்டுதல் 2) அச்சப் பதித்தல்
 3) கொலாஜ் 4) ஸ்டென்சில் ஆக்கம்

19. பின்வருவனவற்றுள் கிராமிய விளையாட்டு எது ?
 1) கிரிக்கட் 2) உதைப்பந்து
 3) கிட்டியடித்தல் 4) கரப்பந்து
20. பின்வரும் பறவைகளுள் வயலில் உழவுவேலை செய்யும் போது காணக்கூடிய பறவை
 1) கிளி 2) கழுகு 3) மரங்கொத்தி 4) கொக்கு
21. அழகிய கூட்டை அமைக்கும் பிராணி
 1) செண்பணம் 2) மைனா 3) மரங்கொத்தி 4) தூக்கணாங்குருவி
22. பின்வருவனவற்றுள் நீந்தத் தெரியாத பிராணி
 1) மாடு 2) யானை 3) ஓட்டகம் 4) தவளை
23. பின்வருவனவற்றுள் வேகமாக ஓடக்கூடிய பறவை
 1) தீக்கோழி 2) கிவி 3) பென்குவின் 4) ஊர்க்குருவி
24. பின்வரும் எத்தாவர இலைகளில் மயிர்கள் காணப்படும் ?
 1) பூசனி 2) அரசு 3) ஆல் 4) செவ்வரத்தை
25. பின்வரும் உணவுகளுள் உலர்த்துவதன் மூலம் நீண்ட காலம் பேணிப் பாதுகாக்கக்கூடிய உணவு
 1) பிளாட்டு 2) தோடம்பழம் 3) புடலங்காய் 4) பூசனிக்காய்
26. மணலில் புதைத்து வைத்துப் பேணத்தக்க உணவுப் பொருள்
 1) புளியை 2) மாம்பழம் 3) எலுமிச்சை 4) தோடை
27. நீண்ட காலம் பழுதடையாமல் இருக்கத்தக்க காய்,
 1) கத்தரிக்காய் 2) வெண்டிக்காய் 3) பூசனிக்காய் 4) புடலங்காய்
28. இலங்கையின் தேசியக் கொடியில் முஸ்லிம் மக்களை குறித்து நிற்கும் நிறம்
 1) செம்மஞ்சள் 2) சிவப்பு 3) பச்சை 4) நீலம்
29. இலங்கையின் தேசியக் கொடியில் உள்ள வாளேந்திய சிங்கத்தின் நிறம்
 1) பச்சை 2) செந்நிறம் 3) மஞ்சள் 4) சிவப்பு
30. இலங்கையின் தேசியக் கொடியில் தேசிய ஒற்றுமையைக் காட்டும் வகையில் சகல பகுதிகளையும் சூழ அமைந்துள்ள நிறம்
 1) மஞ்சள் 2) செந்நிறம் 3) சிவப்பு 4) பச்சை